

فصل

۱

قسمت چهارم

قدرمطلق و ویژگی‌های آن

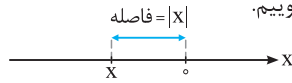
۳۷

قدرمطلق

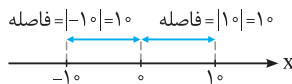
قدرمطلق: تعریف جبری قدرمطلق عدد حقیقی x ، به صورت مقابل است:

$$|x| = \sqrt{x^2} = \begin{cases} x & x \geq 0 \\ -x & x < 0 \end{cases}$$

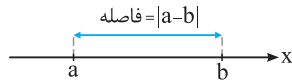
به تعبیر هندسی، به فاصله نقطه متناظر با عدد حقیقی x ، روی محور اعداد حقیقی تا مبدأ مختصات، قدرمطلق x می‌گوییم.



به طور مثال؛ فاصله نقاط به طول‌های 1^0 و -1^0 روی محور اعداد حقیقی تا مبدأ مختصات برابر 1^0 واحد است. لذا $|-1^0| = |1^0| = 1^0$



به طور کلی فاصله نقاط متناظر با اعداد حقیقی a و b روی محور اعداد حقیقی از یکدیگر برابر $|a - b|$ است.



نکته قدرمطلق عدد حقیقی x را به صورت روبه‌رو نیز می‌توان تعریف کرد:

$$|x| = \sqrt[k]{x^k} = \text{Max}\{x, -x\}, \quad (k \in \mathbb{N})$$

(مشابه کار در کلاس ۲ صفحه ۳۳ کتاب درسی)

حاصل هر یک از عبارات زیر را به ساده‌ترین صورت بنویسید.

(آ) $|1 - \sqrt{3}| + |\sqrt{3} - 3|$ (ب) $\sqrt{4x^2 - 4x + 1}$ (پ) $\sqrt{9 - 4\sqrt{5}}$ (ت) $\sqrt{a^4 + 6a^2 + 9}$

$$|1 - \sqrt{3}| + |\sqrt{3} - 3| \stackrel{1 - \sqrt{3} < 0}{\sqrt{3} - 3 < 0}}{\sqrt{3} - 3} = \sqrt{3} - 1 + 3 - \sqrt{3} = 2$$

پاسخ: (آ)

$$\sqrt{4x^2 - 4x + 1} = \sqrt{(2x - 1)^2} = |2x - 1|$$

(ب)

$$\sqrt{9 - 4\sqrt{5}} = \sqrt{4 - 4\sqrt{5} + 5} = \sqrt{(2 - \sqrt{5})^2} = |2 - \sqrt{5}| \stackrel{2 - \sqrt{5} < 0}{\sqrt{5} - 2}$$

(پ)

$$\sqrt{a^4 + 6a^2 + 9} = \sqrt{(a^2 + 3)^2} = |a^2 + 3| \stackrel{a^2 + 3 > 0}{a^2 + 3}$$

(ت)

اگر $x^2 \leq x$ باشد، حاصل $A = \sqrt{x^2} + \sqrt{x^2 - 2x + 1}$ را به دست آورید.

$$x^2 \leq x \Rightarrow x^2 - x \leq 0 \Rightarrow x(x - 1) \leq 0 \xrightarrow{\text{تعیین علامت}} 0 \leq x \leq 1$$

پاسخ:

از رابطه $0 \leq x \leq 1$ نتیجه می‌شود که $x - 1 \leq 0$ و $x \geq 0$ و در نتیجه $|x - 1| = 1 - x$ و $|x| = x$ است. پس:

$$A = \sqrt{x^2} + \sqrt{(x - 1)^2} = |x| + |x - 1| = x + 1 - x = 1$$

اگر $a < 0 < b$ و $|a| > |b|$ ، آنگاه حاصل عبارت $A = |a + b| + |a| + |b|$ کدام است؟

(۴) $2b$

(۳) $2a$

(۲) $-2a$

(۱) $-2b$

$$|a| > |b| \Rightarrow a > -b \Rightarrow a + b > 0$$

پاسخ: چون $a > 0$ و $b < 0$ است، پس $|a| = a$ و $|b| = -b$. پس داریم:

بنابراین می‌توان نوشت:

$$A = |a + b| + |a| + |b| = a + b + a - b = 2a \Rightarrow \text{گزینه (۳) صحیح است.}$$

با استفاده از تعریف قدرمطلق، می‌توان ویژگی‌های مهمی را برای قدرمطلق ارائه نمود. ابتدا در زیر مهم‌ترین ویژگی‌های قدرمطلق را آورده و در ادامه به اثبات برخی از این ویژگی‌ها خواهیم پرداخت.

- (۱) می‌دانیم فاصله هر عدد حقیقی از مبدأ مختصات، عددی نامنفی است. پس برای هر عدد حقیقی x داریم:
- (۲) از آنجایی که $x^2 \geq 0$ ، پس برای هر عدد حقیقی x داریم:
- (۳) برای هر عدد حقیقی x داریم:
- و برای هر دو عدد حقیقی a و b داریم:
- (۴) برای هر دو عدد حقیقی x و y داریم:
- و به طور کلی برای هر $x \in \mathbb{R}$ و هر $n \in \mathbb{N}$ می‌توان نوشت:
- (۵) برای هر دو عدد حقیقی x و y به طوری که $y \neq 0$ ، داریم:
- (۶) برای هر عدد حقیقی x داریم:
- (۷) برای هر دو عدد حقیقی x و y داریم:
- (۸) اگر $a > 0$ ، آن‌گاه به ازای هر $x \in \mathbb{R}$ داریم:
- (۹) اگر $a > 0$ ، آن‌گاه برای هر $x \in \mathbb{R}$ داریم:
- (۱۰) برای هر عدد حقیقی x و هر عدد حقیقی و نامنفی a داریم:
- توجه کنید که اگر $a < 0$ ، آن‌گاه رابطه $|x| > a$ همواره برقرار است، یعنی $x \in \mathbb{R}$ می‌باشد.
- (۱۱) برای هر دو عدد حقیقی a و b به طوری که $b > 0$ و هر عدد حقیقی x داریم:

$$|x| \geq 0$$

$$|x^2| = x^2$$

$$|x| = |-x|$$

$$|a - b| = |b - a|$$

$$|xy| = |x| \cdot |y|$$

$$|x^n| = |x|^n$$

$$\left| \frac{x}{y} \right| = \frac{|x|}{|y|}$$

$$-|x| \leq x \leq |x|$$

$$|x| = |y| \Leftrightarrow x = \pm y$$

$$|x| = a \Leftrightarrow x = \pm a$$

$$|x| < a \Leftrightarrow -a < x < a$$

$$|x| > a \Leftrightarrow x > a \text{ یا } x < -a$$

$$a < |x| < b \Leftrightarrow \begin{cases} a < x < b \\ \text{یا} \\ -b < x < -a \end{cases}$$

$$|x+y| \leq |x| + |y|$$

(۱۲) نامساوی مثلث) برای هر دو عدد حقیقی x و y :

در نامساوی مثلث حالت تساوی زمانی اتفاق می‌افتد که x و y هم‌علامت باشند. به عبارت دیگر می‌توان نوشت:

$$|x+y| = |x| + |y| \Leftrightarrow xy \geq 0 \quad , \quad |x+y| < |x| + |y| \Leftrightarrow xy < 0$$

تذکر: نامساوی مثلث برای هر تعداد عدد حقیقی نیز قابل تعمیم است. به عبارت دیگر اگر x_1, x_2, \dots, x_n اعداد حقیقی باشند، آن‌گاه:

$$|x_1 + x_2 + \dots + x_n| \leq |x_1| + |x_2| + \dots + |x_n|$$

بدیهی است که حالت تساوی باز هم زمانی برقرار است که x_i ها هم‌علامت باشند.

نتایج نامساوی مثلث

$$|x-y| \leq |x| + |y|$$

(۱) اگر در نامساوی مثلث، به جای y ، عبارت $-y$ را جایگزین کنیم، خواهیم داشت:

$$|x| - |y| \leq |x-y|$$

(۲) اگر در نامساوی مثلث، به جای x ، عبارت $x-y$ را جایگزین کنیم، خواهیم داشت:

$$|y| - |x| \leq |x-y|$$

(۳) اگر در نامساوی مثلث، به جای y ، عبارت $y-x$ را جایگزین کنیم، خواهیم داشت:

$$||x| - |y|| \leq |x-y|$$

(۴) از روابط (۲) و (۳) می‌توان نتیجه گرفت:

(۵) با تبدیل y به $-y$ در روابط $|x-y| \leq |x| - |y|$ و $|x-y| \leq ||x| - |y||$ می‌توان نتیجه گرفت:

$$|x| - |y| \leq |x+y| \quad , \quad ||x| - |y|| \leq |x+y|$$

اکنون برخی از ویژگی‌های قدرمطلق را ثابت می‌کنیم:

مثال برای هر دو عدد دلخواه x و y ثابت کنید $|xy| = |x||y|$ و سپس نتیجه بگیرید که اگر $y \neq 0$ ، آن‌گاه $\left| \frac{x}{y} \right| = \frac{|x|}{|y|}$

پاسخ: می‌دانیم $\sqrt{a^2} = |a|$. بنابراین می‌توان نوشت:

$$|xy| = \sqrt{(xy)^2} = \sqrt{x^2 y^2} = \sqrt{x^2} \sqrt{y^2} = |x| |y|$$

$$\left| x \times \frac{1}{y} \right| = |x| \times \left| \frac{1}{y} \right| \Rightarrow \left| \frac{x}{y} \right| = \frac{|x|}{|y|}$$

در رابطه $|xy| = |x||y|$ ، با تبدیل y به $\frac{1}{y}$ ($y \neq 0$)، خواهیم داشت:

مثال

$$|x| < a \Leftrightarrow -a < x < a$$

اگر $a > 0$ باشد، ثابت کنید:

پاسخ: با توجه به تعریف قدرمطلق، می‌دانیم اگر $x \geq 0$ ، آن‌گاه $|x| = x$ و چنان‌چه $x < 0$ ، آن‌گاه $|x| = -x$. پس داریم:

$$|x| < a \Leftrightarrow (x \geq 0, x < a) \text{ یا } (x < 0, -x < a) \Leftrightarrow (0 \leq x < a) \text{ یا } (-a < x < 0) \Leftrightarrow -a < x < a$$

مثال

$$-|x| \leq x \leq |x|$$

برای هر عدد حقیقی x ، ثابت کنید:

پاسخ: می‌دانیم اگر $a \geq 0$ باشد، آن‌گاه $-a \leq x \leq a \Leftrightarrow |x| \leq a$. بنابراین از رابطهٔ بدیهی $|x| \leq |x|$ نیز نتیجه می‌شود که:

$$-|x| \leq x \leq |x|$$

مثال

$$|x+y| \leq |x|+|y|$$

نامساوی مثلث را ثابت کنید. یعنی برای هر x و y ثابت کنید:

پاسخ: می‌دانیم $|x| \leq x \leq |x|$ و $-|y| \leq y \leq |y|$ ، بنابراین با جمع طرفین این دو نامساوی هم‌جهت خواهیم داشت:

$$-(|x|+|y|) \leq x+y \leq |x|+|y| \xrightarrow{-a \leq x \leq a \Leftrightarrow |x| \leq a} |x+y| \leq |x|+|y|$$

تست

کم‌ترین مقدار عبارت $A = |x+2| + |x-3|$ کدام است؟

۷ (۴)

۵ (۳)

۳ (۲)

صفر (۱)

پاسخ: می‌دانیم $|x-3| = |3-x|$. بنابراین با استفاده از نامساوی مثلث خواهیم داشت:

$$A = |x+2| + |3-x| \geq (x+2) + (3-x) = 5 \Rightarrow A \geq 5$$

پس کم‌ترین مقدار A برابر ۵ بوده و گزینهٔ (۳) صحیح است.

نکتهٔ STP ماکسیمم و مینیمم دو عدد a و b را می‌توان از روابط زیر تعیین کرد:

$$\max\{a, b\} = \frac{a+b}{2} + \frac{|a-b|}{2}, \quad \min\{a, b\} = \frac{a+b}{2} - \frac{|a-b|}{2}$$

$$\max\{a, b\} + \min\{a, b\} = a + b$$

نتیجه به کمک روابط فوق می‌توان نشان داد:

تست

کوچک‌ترین عضو مجموعهٔ $A = \{4x-1, 7-4x\}$ کدام است؟

۳+۴|x-1| (۴)

۱+|x-1| (۳)

۳-۴|x-1| (۲)

۱-|x-1| (۱)

پاسخ: با استفاده از رابطهٔ $\min\{a, b\} = \frac{a+b}{2} - \frac{|a-b|}{2}$ داریم:

$$\min A = \min\{4x-1, 7-4x\} = \frac{4x-1+7-4x}{2} - \frac{|4x-1-7+4x|}{2} = 3-4|x-1| \Rightarrow \text{گزینهٔ (۲) صحیح است.}$$

معادلات شامل قدرمطلق

معادلات قدرمطلق: جواب‌های معادلهٔ $|f(x)| = |g(x)|$ ، همان جواب‌های $f(x) = g(x)$ و $f(x) = -g(x)$ روی هم هستند. به معادلاتی نظیر این معادله که شامل عبارت قدرمطلق هستند، معادلات قدرمطلق می‌گویند.

روش حل معادلات قدرمطلق: در حالت کلی برای حل معادلات شامل قدرمطلق به روش جبری، ابتدا عبارات درون قدرمطلق‌ها را در همسایگی ریشه‌های درون قدرمطلق‌ها تعیین علامت کرده و قدرمطلق‌ها را برمی‌داریم، سپس معادلهٔ حاصل که فاقد قدرمطلق می‌باشد را حل کرده و مقدار متغیر را به‌دست می‌آوریم. جواب یا جواب‌های به‌دست آمده وقتی قابل قبول هستند که در ناحیهٔ مورد نظر باشند.

نکته علاوه‌بر روش فوق، در حل معادلات شامل قدرمطلق می‌توان از روابط زیر استفاده نمود:

$$|u| = a \xrightarrow{a \geq 0} u = \pm a \quad (۲)$$

$$|u| = |v| \Rightarrow u = \pm v \quad (۱)$$

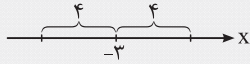
$$|u| = -u \Rightarrow u \leq 0 \quad (۴)$$

$$|u| = u \Rightarrow u \geq 0 \quad (۳)$$

$$|u| + |v| = |u+v| \Rightarrow u, v \geq 0 \quad (۵)$$

نقطاتی روی محور اعداد حقیقی بیابید که فاصله آن نقاط از نقطه ۳- روی محور اعداد حقیقی برابر ۴ باشد؟

(مشابه مسئله صفحه ۳۶ کتاب درسی)



پاسخ: می‌دانیم فاصله نقاط متناظر با اعداد حقیقی a و b روی محور اعداد حقیقی از یکدیگر برابر $|a - b|$ است. بنابراین اگر طول نقطه جواب مسئله را x بنامیم، بنا بر فرض داریم:

$$|x - (-3)| = 4 \Rightarrow |x + 3| = 4 \xrightarrow{|u|=a \xrightarrow{a>0} u=\pm a} \begin{cases} x + 3 = 4 \\ x + 3 = -4 \end{cases} \Rightarrow \begin{cases} x = 1 \\ x = -7 \end{cases}$$

معادلات زیر را حل کنید.

(آ) $|x - 2| - 3 = 1$ (ب) $|x - 1| = 2x$ (پ) $|x^2 - 3x| + x^2 - 3x = 0$

(ت) $|3x - 2| + |3 - x| = |2x + 1|$ (ث) $|3x + 1| - |x| = x + 2$

پاسخ: (آ) با استفاده از رابطه $|u| = a \xrightarrow{a \geq 0} u = \pm a$ داریم:

$$|x - 2| - 3 = 1 \Rightarrow \begin{cases} |x - 2| - 3 = 1 \\ |x - 2| - 3 = -1 \end{cases} \Rightarrow \begin{cases} |x - 2| = 4 \\ |x - 2| = 2 \end{cases} \Rightarrow \begin{cases} x - 2 = \pm 4 \\ x - 2 = \pm 2 \end{cases} \Rightarrow \begin{cases} x = 6 \text{ یا } x = -2 \\ x = 4 \text{ یا } x = 0 \end{cases}$$

$$|x - 1| = 2x \Rightarrow \begin{cases} x - 1 = 2x \\ x - 1 = -2x \end{cases} \Rightarrow \begin{cases} x = -1 \\ x = \frac{1}{3} \end{cases}$$

(ب) با فرض $2x \geq 0$ یا $x \geq 0$ داریم:

توجه کنید که باید $x \geq 0$ ، لذا $x = -1$ نمی‌تواند جواب معادله باشد و $x = \frac{1}{3}$ تنها جواب این معادله است.

(پ) می‌دانیم اگر $|u| = -u$ ، آن‌گاه $u \leq 0$. پس داریم:

$$|x^2 - 3x| + x^2 - 3x = 0 \Rightarrow |x^2 - 3x| = -(x^2 - 3x) \Rightarrow x^2 - 3x \leq 0 \Rightarrow x(x - 3) \leq 0 \xrightarrow{\text{تعیین علامت}} 0 \leq x \leq 3$$

(ت) اگر قرار دهیم $u = 3x - 2$ و $v = 3 - x$ ، آن‌گاه $u + v = 2x + 1$. در نتیجه در این معادله رابطه $|u + v| = |u| + |v|$ برقرار است و این یعنی این‌که در نامساوی مثلث، حالت تساوی اتفاق افتاده است. پس باید u و v هم‌علامت باشند. به عبارت دیگر داریم:

$$uv \geq 0 \Rightarrow (3x - 2)(3 - x) \geq 0 \xrightarrow{\text{تعیین علامت}} \frac{2}{3} \leq x \leq 3$$

x	$-\infty$	$-\frac{1}{3}$	0	$+\infty$
$3x+1$	$-$	0	$+$	$+$
x	$-$	$-$	0	$+$

(ث) این معادله را به کمک تعیین علامت عبارات درون قدرمطلق‌ها حل می‌کنیم.

با توجه به جدول مقابل، به کمک حالت‌بندی، معادله را حل می‌کنیم:

حالت اول: $x < -\frac{1}{3}$ ، در این حالت هر دو عبارت $3x + 1$ و x منفی هستند. پس:

$$-(3x + 1) - (-x) = x + 2 \Rightarrow -3x = 3 \Rightarrow x = -1$$

چون $x = -1$ در محدوده $x < -\frac{1}{3}$ قرار دارد، پس $x = -1$ یکی از جواب‌های این معادله است.

حالت دوم: $-\frac{1}{3} \leq x < 0$ ، در این حالت عبارت $3x + 1$ مثبت ولی x منفی است. پس:

$$3x + 1 - (-x) = x + 2 \Rightarrow 3x = 1 \Rightarrow x = \frac{1}{3}$$

چون $x = \frac{1}{3}$ در محدوده $-\frac{1}{3} \leq x < 0$ قرار ندارد، پس $x = \frac{1}{3}$ قابل قبول نیست.

حالت سوم: $x \geq 0$ ، در این حالت هر دو عبارت $3x + 1$ و x مثبت هستند، پس:

$$3x + 1 - x = x + 2 \Rightarrow x = 1$$

چون $x = 1$ در محدوده $x \geq 0$ قرار دارد، پس $x = 1$ نیز جواب معادله بوده و در نتیجه در کل این معادله دو جواب دارد.

معادله $|2x - 3| = |x + 1|$ را به دو روش جبری حل کنید.

(مشابه کار در کلاس صفحه ۳۶ کتاب درسی)

$$|2x - 3| = |x + 1| \Rightarrow \begin{cases} 2x - 3 = x + 1 \\ 2x - 3 = -x - 1 \end{cases} \Rightarrow \begin{cases} x = 4 \\ 3x = 2 \Rightarrow x = \frac{2}{3} \end{cases}$$

پاسخ: روش اول: با استفاده از ویژگی $|u| = |v| \Rightarrow u = \pm v$ ، داریم:

روش دوم: طرفین معادله را به توان دو می‌رسانیم. از آن جایی که $|u|^2 = u^2$ است، داریم:

$$|2x - 3| = |x + 1| \xrightarrow{\text{توان ۲}} (2x - 3)^2 = (x + 1)^2 \Rightarrow (2x - 3)^2 - (x + 1)^2 = 0$$

$$\xrightarrow{\text{اتحاد مزدوج}} (2x - 3 - x - 1)(2x - 3 + x + 1) = 0 \Rightarrow (x - 4)(3x - 2) = 0 \Rightarrow x = 4 \text{ یا } x = \frac{2}{3}$$

مسئله

معادله $\frac{3-2x}{|x-2|} = 1$ را به سه روش حل کنید.

(مشابه کار در کلاس صفحه ۲۶ کتاب درسی)

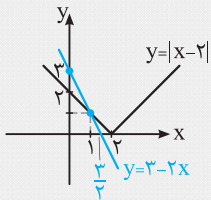
x	۲
x-۲	- ۰ +

پاسخ: با فرض $x \neq 2$ ، معادله را می‌توان به صورت $|x-2| = 3-2x$ نوشت.

روش اول: با استفاده از تعریف قدرمطلق، عبارت درون قدرمطلق را تعیین علامت کرده و سپس معادله را حل می‌کنیم، با توجه به جدول دو حالت در نظر می‌گیریم:

حالت اول: $x < 2$ ، در این حالت $x-2$ منفی است. پس $|x-2| = 2-x$ می‌باشد. در نتیجه: $|x-2| = 3-2x \Rightarrow 2-x = 3-2x \Rightarrow x = 1$ با توجه به این‌که $x = 1$ در شرط $x < 2$ صدق می‌کند، آن را می‌پذیریم.حالت دوم: $x \geq 2$ ، در این حالت $x-2$ مثبت است. پس $|x-2| = x-2$. در نتیجه:چون $x = \frac{5}{3}$ در شرط $x \geq 2$ صدق نمی‌کند، پس این جواب قابل قبول نیست.روش دوم: با استفاده از ویژگی $|u| = a \xrightarrow{a \geq 0} u = \pm a$ داریم:

$$|x-2| = 3-2x \xrightarrow{3-2x \geq 0} \begin{cases} x-2 = 3-2x \\ x-2 = 2x-3 \end{cases} \Rightarrow \begin{cases} 3x = 5 \\ -x = -1 \end{cases} \Rightarrow \begin{cases} x = \frac{5}{3} \\ x = 1 \end{cases}$$

به ازای $x = \frac{5}{3}$ ، عبارت $3-2x$ منفی می‌شود و در نتیجه معادله $|x-2| = 3-2x$ برقرار نمی‌باشد.روش سوم: از روش هندسی حل معادله استفاده می‌کنیم. برای این منظور نمودار $y = |x-2|$ را به کمک انتقال نمودار $y = |x|$ ، به اندازه دو واحد در جهت مثبت محور x ‌ها، به همراه نمودار $y = 3-2x$ ، در یک دستگاه رسم می‌کنیم.با توجه به شکل، دو نمودار همدیگر را فقط در یک نقطه و آن هم در $x = 1$ که در روش‌های قبل به دست آوردیم، قطع می‌کنند. پس این معادله تنها یک جواب $x = 1$ را دارد.

تست

مجموعه جواب نامعادله $|x+2| + |x-2| = 2$ برابر بازه $[a, b]$ است. بیش‌ترین مقدار $b-a$ کدام است؟

۱) $\frac{1}{2}$ ۲) ۱ ۳) ۲ ۴) $\frac{5}{2}$

پاسخ: می‌دانیم $\max\{x, -x\} = |x|$. بنابراین باید معادله $|x+2| + |x-2| = 2$ را حل کنیم. اگر قرار دهیم $u = x$ و $v = 2-x$ ، آن‌گاه $u+v = 2$ است، چون $|2| = 2$ ، بنابراین رابطه $|u+v| = |u| + |v|$ برقرار است. پس در نامساوی مثلث حالت تساوی اتفاق افتاده است. لذا باید داشته باشیم:

$$uv \geq 0 \Rightarrow x(2-x) \geq 0 \xrightarrow{\text{تعیین علامت}} 0 \leq x \leq 2 \Rightarrow x \in [0, 2]$$

پس بیش‌ترین مقدار $b-a$ برابر ۲ بوده و در نتیجه گزینه (۳) صحیح است.

تست

معادله $|x^2 - x - 2| = -|x^3 + x - 10|$ چند جواب حقیقی دارد؟

۱) صفر ۲) ۱ ۳) ۲ ۴) ۳

پاسخ: معادله داده شده را می‌توان به صورت $|x^2 - x - 2| + |x^3 + x - 10| = 0$ نوشت. چون مجموع دو عبارت نامنفی صفر شده است، پس لازم است هر یک از دو عبارت صفر شود. بنابراین $x = a$ وقتی جواب این معادله است که جواب مشترک هر دو معادله $|x^2 - x - 2| = 0$ و $|x^3 + x - 10| = 0$ باشد. در نتیجه کافی است، معادله ساده‌تر را حل کرده و پس از یافتن جواب‌های آن در دیگری امتحان کنیم. اگر در معادله دیگری صدق کند، جواب معادله محسوب می‌شود. در این سؤال معادله $|x^2 - x - 2| = 0$ را که ساده‌تر است، حل می‌کنیم:

$$|x^2 - x - 2| = 0 \Rightarrow x^2 - x - 2 = 0 \Rightarrow x = 2 \text{ یا } x = -1$$

از این میان فقط $x = 2$ در معادله $|x^3 + x - 10| = 0$ صدق می‌کند. پس معادله تنها یک جواب دارد. در نتیجه گزینه (۲) صحیح است.

در حالت کلی برای حل نامعادلات شامل قدرمطلق، ابتدا عبارات درون قدرمطلقها را با توجه به ریشه آنها تعیین علامت نموده، سپس در هر بازه پس از برداشتن قدرمطلقها، نامعادله را حل می‌کنیم. مجموعه جواب به دست آمده در هر حالت را با شرایط اولیه آن حالت، یعنی شرطی که اعمال کرده‌ایم تا قدرمطلقها را برداریم، اشتراک گرفته و در نهایت از مجموعه جوابهای حالت‌هایی که در نظر گرفته‌ایم اجتماع می‌گیریم.

نکته در حل نامعادلات شامل قدرمطلق، علاوه بر روش فوق، استفاده از روابط زیر می‌تواند مفید واقع شود:

۱) $|u| < a \xrightarrow{a > 0} -a < u < a$

۲) $|u| > a \xrightarrow{a \geq 0} u > a$ یا $u < -a$

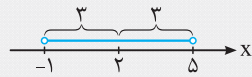
۳) $|u| < |v| \Leftrightarrow u^2 < v^2 \Leftrightarrow (u-v)(u+v) < 0$

۴) $a < |u| < b \xrightarrow{b > 0} a < u < b$ یا $-b < u < -a$

۵) $|u+v| < |u| + |v| \Leftrightarrow uv < 0$

مثال عبارت «فاصله بین x و عدد ۲ روی محور اعداد حقیقی کم‌تر از ۳ است.» را با استفاده از نماد قدرمطلق به صورت یک نامساوی بنویسید و سپس جواب آن را روی محور اعداد نمایش دهید.

(مشابه تمرین ۳ صفحه ۲۸ کتاب درسی)



پاسخ: می‌دانیم فاصله x تا عدد ۲ روی محور اعداد حقیقی برابر $|x-2|$ است. طبق فرض، این فاصله

کم‌تر از ۳ می‌باشد. پس $|x-2| < 3$. با استفاده از ویژگی $|u| < a \xrightarrow{a > 0} -a < u < a$ ، داریم:

$$|x-2| < 3 \Rightarrow -3 < x-2 < 3 \Rightarrow -1 < x < 5$$

نامعادلات زیر را حل کنید.

پ) $|3x+2| \leq |2x-1|$

ب) $|x+1| > 2x$

آ) $|3x-1| \leq 2$

ج) $2|x-1| + |x| < 3$

ث) $|2x-3| < |x-5| + |x+2|$

ت) $x < |2x-1| < 3$

پاسخ: آ) با استفاده از رابطه $|u| \leq a \xrightarrow{a \geq 0} -a \leq u \leq a$ ، داریم:

$$|3x-1| \leq 2 \Rightarrow -2 \leq 3x-1 \leq 2 \Rightarrow -1 \leq 3x \leq 3 \Rightarrow -\frac{1}{3} \leq x \leq 1$$

ب) اگر $x \leq 0$ باشد که رابطه همواره برقرار است. لذا با فرض $x > 0$ و براساس ویژگی $|u| > a \xrightarrow{a \geq 0} u > a$ یا $u < -a$ ، می‌توان نوشت:

$$|x+1| > 2x \Rightarrow \begin{cases} x+1 > 2x \\ x+1 < -2x \end{cases} \Rightarrow \begin{cases} x < 1 \\ x < -\frac{1}{3} \end{cases} \xrightarrow{\text{اجتماع می‌گیریم.}} x < 1$$

این جواب شامل $x \leq 0$ نیز هست.

پ) چون طرفین نامعادله نامنفی است، لذا طرفین را به توان ۲ می‌رسانیم:

$$|3x+2| \leq |2x-1| \xrightarrow{\text{توان ۲}} (3x+2)^2 \leq (2x-1)^2 \Rightarrow (3x+2)^2 - (2x-1)^2 \leq 0$$

$$\xrightarrow{\text{مزدوج}} ((3x+2) + (2x-1))((3x+2) - (2x-1)) \leq 0 \Rightarrow (5x+1)(x+3) \leq 0 \xrightarrow{\text{تعیین علامت}} -3 \leq x \leq -\frac{1}{5}$$

ت) بنابر رابطه $|u| < b \xrightarrow{b > 0} a < u < b$ یا $-b < u < -a$ می‌توان نوشت:

$$x < |2x-1| < 3 \Rightarrow \begin{cases} x < 2x-1 < 3 \\ -3 < 2x-1 < -x \end{cases} \Rightarrow \begin{cases} 1 < x < 2 \\ -1 < x < \frac{1}{3} \end{cases} \Rightarrow x \in (-1, \frac{1}{3}) \cup (1, 2)$$

ث) اگر قرار دهیم $u = x-5$ و $v = x+2$ ، آن‌گاه $u+v = 2x-3$. لذا رابطه $|u+v| < |u| + |v|$ برقرار است. بنابراین در نامساوی مثلث حالت تساوی حذف شده است. پس لازم است u و v مختلف‌العلامت باشند. به عبارت دیگر باید داشته باشیم:

$$uv < 0 \Rightarrow (x+2)(x-5) < 0 \xrightarrow{\text{تعیین علامت}} -2 < x < 5$$

ج) این نامعادله را به کمک تعیین علامت عبارات درون قدرمطلقها و با استفاده از حالت‌بندی حل می‌کنیم:

x	$-\infty$	0	1	$+\infty$
$x-1$	-	-	0	+
x	-	0	+	+

حالت اول: $x < 0$ ؛ در این حالت عبارات x و $x - 1$ منفی اند. پس:

$$-2(x-1) - x < 3 \Rightarrow -3x < 1 \Rightarrow x > -\frac{1}{3}$$

حال باید بین شرط اولیه $x < 0$ و مجموعه جواب $x > -\frac{1}{3}$ اشتراک بگیریم که به دست می‌آید:

$$-\frac{1}{3} < x < 0 \quad (1)$$

حالت دوم: $0 \leq x < 1$ ؛ در این حالت داریم:

$$-2(x-1) + x < 3 \Rightarrow -x < 1 \Rightarrow x > -1$$

با اشتراک‌گیری بین مجموعه جواب نامعادلات $0 \leq x < 1$ و $x > -1$ ، به دست می‌آید:

$$0 \leq x < 1 \quad (2)$$

حالت سوم: $x \geq 1$ ؛ در این حالت هر دو عبارت x و $x - 1$ مثبت اند. پس:

$$2(x-1) + x < 3 \Rightarrow 3x < 5 \Rightarrow x < \frac{5}{3}$$

اگر بین مجموعه جواب نامعادلات $x \geq 1$ و $x < \frac{5}{3}$ اشتراک بگیریم، خواهیم داشت:

$$1 \leq x < \frac{5}{3} \quad (3)$$

اکنون بین مجموعه جواب روابط (۱)، (۲) و (۳) اجتماع می‌گیریم که در این صورت مجموعه جواب معادله با بازه $(-\frac{1}{3}, \frac{5}{3})$ برابر خواهد بود.

تست

اگر نامعادلات $|2x+3| < x+2$ و $a < 3x+2 < b$ معادل یکدیگر باشند، $a+b$ کدام است؟

۳ (۴)

۱ (۳)

-۴ (۲)

-۵ (۱)

پاسخ: اگر $x+2 \leq 0$ ، نامعادله اول نادرست است. بنابراین با فرض $x+2 > 0$ داریم:

$$|2x+3| < x+2 \Rightarrow -x-2 < 2x+3 < x+2 \Rightarrow \begin{cases} 2x+3 < x+2 \\ -x-2 < 2x+3 \end{cases} \Rightarrow \begin{cases} x < -1 \\ -\frac{5}{3} < x \end{cases} \xrightarrow{\text{اشتراک می‌گیریم.}} -\frac{5}{3} < x < -1$$

چون مجموعه جواب به دست آمده در شرط $x+2 > 0$ یا $x > -2$ صدق می‌کند، لذا قابل قبول بوده و داریم:

$$-\frac{5}{3} < x < -1 \xrightarrow{\times 2} -\frac{10}{3} < 2x < -2 \xrightarrow{+2} -\frac{4}{3} < 2x+2 < 0$$

بنابراین $a = -3$ و $b = -1$ و در نتیجه $a+b = -4$. پس گزینه (۲) صحیح است.**نکته STP:** اگر $a < x < b$ ، آن‌گاه $|x| < \max\{|a|, |b|\}$ به طور مثال، اگر $-5 < x < 2$ باشد، آن‌گاه $|-5| = 5$ و $|2| = 2$ و در نتیجه $|x| < 5$ در واقع داریم:

$$-5 < x < 2 \Rightarrow -5 < x < 2 < 5 \Rightarrow -5 < x < 5 \Rightarrow |x| < 5$$

هم‌چنین عدد ۵ کوچک‌ترین مقداری است که $|x|$ از آن کم‌تر است.

تست

اگر از رابطه $2x^2 < 5 - 3x$ نتیجه شود $|x| < k$ ، آن‌گاه کم‌ترین مقدار k کدام است؟ $\frac{5}{3}$ (۴) $\frac{5}{2}$ (۳) $\frac{3}{2}$ (۲)

۱ (۱)

$$2x^2 < 5 - 3x \Rightarrow 2x^2 + 3x - 5 < 0 \Rightarrow (x-1)(2x+5) < 0 \xrightarrow{\text{تعیین علامت}} -\frac{5}{2} < x < 1$$

پاسخ:

$$\xrightarrow{\text{بنابر نکته قبل}} |x| < \max\left\{\left|-\frac{5}{2}\right|, |1|\right\} = \frac{5}{2} \Rightarrow |x| < \frac{5}{2}$$

بنابراین کم‌ترین مقدار k برابر $\frac{5}{2}$ است و لذا گزینه (۳) صحیح است.**نکته** به کمک تعریف قدرمطلق و با استفاده از تعیین علامت عبارت‌های درون قدرمطلق‌ها، یک تابع شامل قدرمطلق را می‌توان بدون استفاده از

نماد قدرمطلق و به صورت یک تابع چندضابطه‌ای نوشت.

مثال

با استفاده از تعیین علامت، ضابطه هر یک از توابع زیر را بدون استفاده از نماد قدرمطلق بنویسید. (مشابه تمرین ۱ صفحه ۲۸ کتاب درسی)

(ب) $f(x) = |x+1| + |x-2|$

(آ) $f(x) = |x-1|$

x	$-\infty$	۱	$+\infty$
x-1	-	۰	+

پاسخ: (آ) عبارت درون قدرمطلق را تعیین علامت می‌کنیم:با توجه به جدول، عبارت $x-1$ برای $x < 1$ منفی است. پس در این حالت $|x-1| = 1-x$ و برای هر $x \geq 1$ ، $x-1$ نامنفی است. پس در این

$$f(x) = \begin{cases} x(x-1) & x \geq 1 \\ x(1-x) & x < 1 \end{cases} \Rightarrow f(x) = \begin{cases} x^2 - x & x \geq 1 \\ x - x^2 & x < 1 \end{cases}$$

حالت $|x-1| = x-1$ است، بنابراین می‌توان نوشت:

(ب) عبارت‌های درون قدرمطلق‌ها را در یک جدول تعیین علامت می‌کنیم:

x	-∞	-۱	۲	+∞
x+۱	-	۰	+	+
x-۲	-	-	۰	+

با توجه به جدول می‌توان نوشت:

$$f(x) = \begin{cases} (-x-1) + (2-x) & x < -1 \\ (x+1) + (2-x) & -1 \leq x \leq 2 \\ (x+1) + (x-2) & x > 2 \end{cases} \Rightarrow f(x) = \begin{cases} 1-2x & x < -1 \\ 3 & -1 \leq x \leq 2 \\ 2x-1 & x > 2 \end{cases}$$

رسم نمودار توابع شامل قدرمطلق

در حالت کلی، برای رسم نمودار توابع شامل قدرمطلق می‌توان به کمک تعیین علامت عبارات درون قدرمطلق‌ها، تابع مفروض را به یک تابع چندضابطه‌ای تبدیل نموده و در نهایت نمودار هر یک از ضابطه‌ها را روی دامنهٔ مربوط به آن رسم نمود.

مثال

نمودار توابع زیر را رسم کنید.

(آ) $f(x) = x + |x+1|$

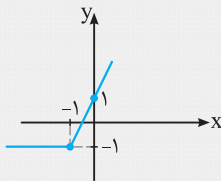
(ب) $f(x) = 2x - |x-1| + \frac{|x|}{x}$

(پاسخ: آ) با توجه به جدول زیر، ابتدا تابع f را به صورت یک تابع دوضابطه‌ای نوشته و سپس نمودار آن را رسم می‌کنیم.

x	-∞	-۱	+∞
x+۱	-	۰	+

$$f(x) = \begin{cases} x-x-1 & x < -1 \\ x+x+1 & x \geq -1 \end{cases} \Rightarrow f(x) = \begin{cases} -1 & x < -1 \\ 2x+1 & x \geq -1 \end{cases}$$

برای رسم نمودار f ، کافی است نمودار $y = -1$ را در بازه $(-\infty, -1)$ و نمودار $y = 2x + 1$ را در بازه $[-1, +\infty)$ رسم کنیم. بنابراین نمودار f به صورت مقابل خواهد بود:

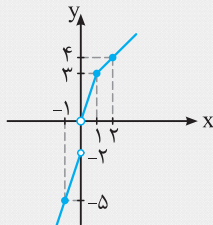


(ب) با توجه به جدول زیر، تابع f را به صورت یک تابع چندضابطه‌ای می‌نویسیم و سپس نمودار آن را رسم می‌کنیم.

x	-∞	۰	۱	+∞
x-۱	-	-	۰	+
x	-	۰	+	+

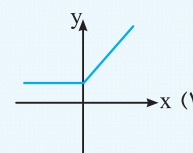
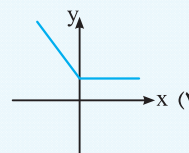
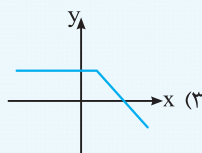
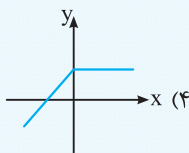
$$f(x) = \begin{cases} 2x + x - 1 + \frac{-x}{x} & x < 0 \\ 2x + x - 1 + \frac{x}{x} & 0 < x < 1 \\ 2x - (x-1) + \frac{x}{x} & x \geq 1 \end{cases} \Rightarrow f(x) = \begin{cases} 3x - 2 & x < 0 \\ 3x & 0 < x < 1 \\ x + 2 & x \geq 1 \end{cases}$$

اکنون برای رسم نمودار تابع f کافی است، نمودار $y = 3x - 2$ را در بازه $(-\infty, 0)$ ، نمودار $y = 3x$ را در بازه $(0, 1)$ و نمودار $y = x + 2$ را در بازه $[1, +\infty)$ رسم کنیم. پس نمودار f به صورت مقابل خواهد بود:



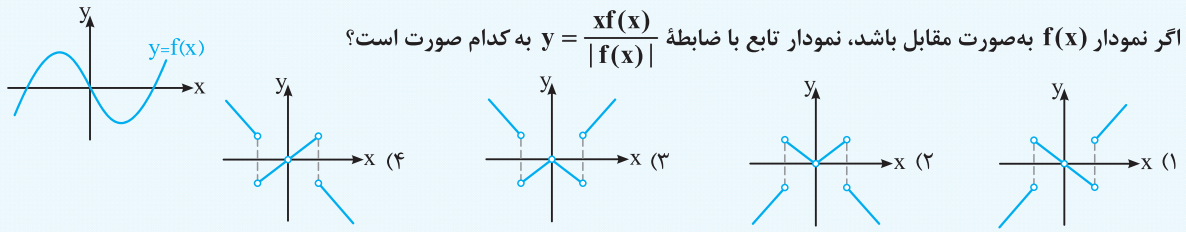
تست

نمودار تابع با ضابطه $f(x) = |x - |x|| + 1$ به کدام صورت است؟



(پاسخ: ب) برای $x \geq 0$ ، داریم $f(x) = 1$. لذا یکی از گزینه‌های (۲) یا (۴) درست است. هم‌چنین به ازای هر $x < 0$ داریم $f(x) = -2x + 1$. یعنی تابع f برای $x < 0$ یک تابع خطی با شیب منفی است و لذا گزینهٔ (۲) صحیح است.

تست



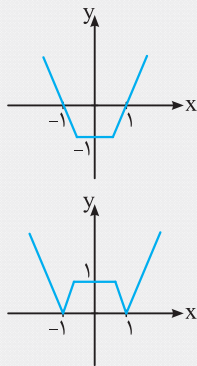
پاسخ: در بازه‌هایی که $f(x) > 0$ است، یعنی نمودار تابع f بالای محور x ها قرار دارد، باید نمودار $y = x$ را رسم کنیم. هم‌چنین در بازه‌هایی که نمودار f زیر محور x ها قرار دارد، داریم $|f(x)| = -f(x)$ و لذا باید نمودار $y = -x$ را رسم کنیم. بنابراین گزینه (۳) صحیح است.

۴۵

روش رسم نمودار $y = |f(x)|$ به کمک نمودار $y = f(x)$

با توجه به این که $y = |f(x)| = \begin{cases} f(x) & f(x) \geq 0 \\ -f(x) & f(x) < 0 \end{cases}$ ، برای رسم نمودار $y = |f(x)|$ ابتدا نمودار $y = f(x)$ را رسم می‌کنیم، سپس با توجه به این که نمودار $y = -f(x)$ قرینه نمودار $y = f(x)$ نسبت به محور x ها است، بخش‌هایی از نمودار $y = f(x)$ که زیر محور x ها واقع است را نسبت به محور x ها قرینه می‌کنیم.

مثال



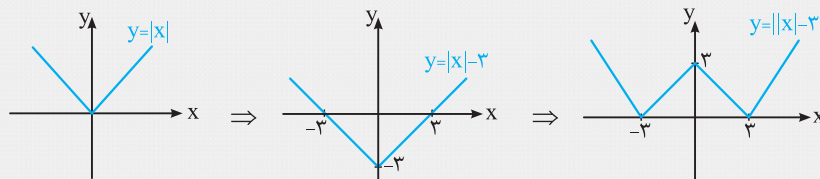
پاسخ: بخش‌هایی از نمودار f که زیر محور x ها قرار دارد را نسبت به محور x ها قرینه می‌کنیم. پس نمودار $y = |f(x)|$ به صورت مقابل خواهد بود:

مثال

ابتدا نمودار $f(x) = ||x| - 3|$ را رسم کنید و سپس معادله $f(x) = 3$ را به روش هندسی و جبری حل کنید.

(مشابه تمرین ۶ صفحه ۳۸ کتاب درسی)

پاسخ: برای رسم $f(x) = ||x| - 3|$ ، ابتدا $y = |x| - 3$ را به کمک انتقال نمودار $y = |x|$ به اندازه سه واحد در راستای محور y ها به سمت پایین رسم کرده و سپس بخش‌هایی از نمودار حاصل که زیر محور x ها قرار دارد را نسبت به محور x ها قرینه می‌کنیم تا نمودار $f(x) = ||x| - 3|$ حاصل شود. مراحل رسم در روبه‌رو آمده است:

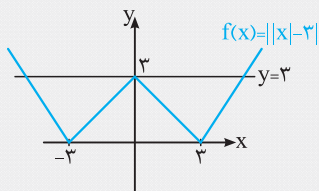


اکنون نمودارهای $y = 3$ و $f(x) = ||x| - 3|$ را در یک دستگاه رسم می‌کنیم:

با توجه به شکل، نمودار تابع $f(x) = ||x| - 3|$ ، خط $y = 3$ را در سه نقطه قطع کرده است، پس

معادله $||x| - 3| = 3$ سه ریشه دارد. برای یافتن این ریشه‌ها، به روش جبری عمل می‌کنیم:

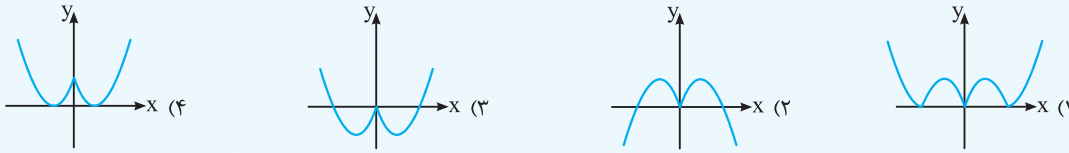
$$||x| - 3| = 3 \Rightarrow \begin{cases} |x| - 3 = 3 \\ |x| - 3 = -3 \end{cases} \Rightarrow \begin{cases} |x| = 6 \\ |x| = 0 \end{cases} \Rightarrow \begin{cases} x = \pm 6 \\ x = 0 \end{cases}$$

روش رسم نمودار $y = f(|x|)$ به کمک نمودار $y = f(x)$ ویژه علاقمندان

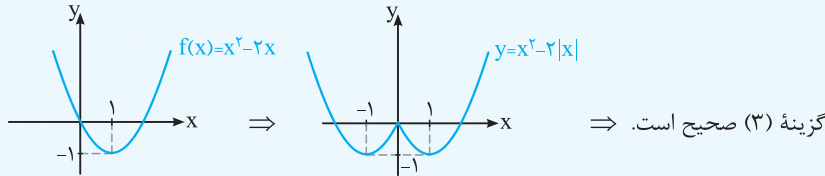
با توجه به این که $y = f(|x|) = \begin{cases} f(x) & x \geq 0 \\ f(-x) & x < 0 \end{cases}$ ، برای رسم نمودار $y = f(|x|)$ ابتدا نمودار $y = f(x)$ را رسم می‌کنیم، سپس بخش‌هایی از نمودار $y = f(x)$ که در سمت چپ محور y ها قرار دارد را حذف کرده و به جای آن، قرینه آن قسمت از نمودار f که در سمت راست محور y ها واقع است را در سمت چپ محور y ها نیز رسم می‌کنیم. در واقع باید نمودار تابع $y = f(|x|)$ نسبت به محور y ها متقارن باشد.

تست

نمودار تابع $y = x^2 - 2|x|$ به کدام صورت زیر است؟



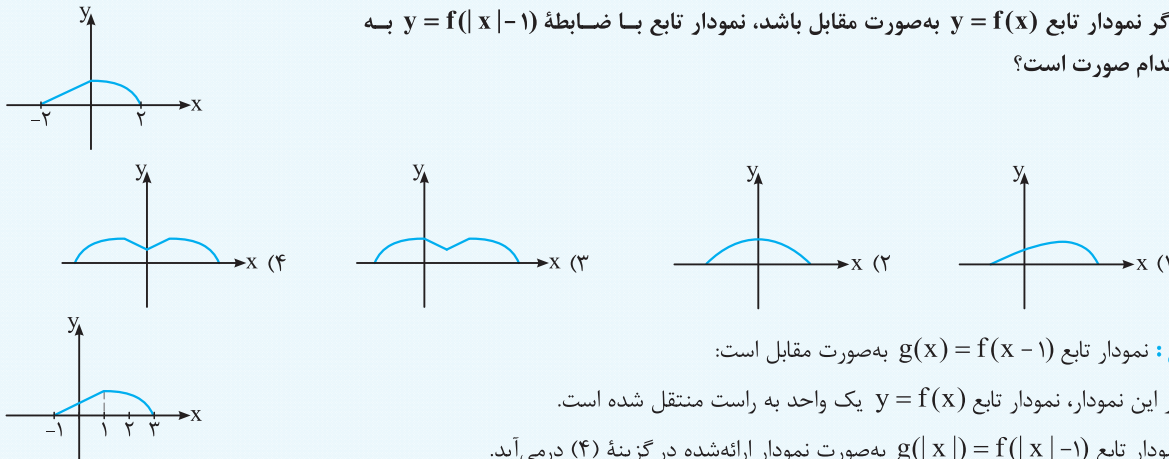
پاسخ: ابتدا نمودار $f(x) = x^2 - 2x = (x-1)^2 - 1$ را رسم کرده، سپس با توجه به توضیحات داده شده در مورد نمودار $y = f(|x|)$ ، نمودار $f(|x|) = x^2 - 2|x|$ را رسم می‌نماییم.



گزینه (۳) صحیح است.

تست

اگر نمودار تابع $y = f(x)$ به صورت مقابل باشد، نمودار تابع با ضابطه $y = f(|x-1|)$ به کدام صورت است؟



پاسخ: نمودار تابع $g(x) = f(x-1)$ به صورت مقابل است:

در واقع در این نمودار، نمودار تابع $y = f(x)$ یک واحد به راست منتقل شده است.

بنابراین نمودار تابع $g(|x|) = f(|x-1|)$ به صورت نمودار ارائه شده در گزینه (۴) درمی‌آید.

روشن رسم نمودار توابع به فرم $y = m_1|x - a_1| + m_2|x - a_2| + \dots + m_n|x - a_n|$

برای رسم نمودار تابع مذکور، ابتدا نقاط به طول‌های $x = a_1, x = a_2, \dots, x = a_n$ (ریشه‌های درون قدرمطلق‌ها) را در دستگاه مختصات مشخص نموده و آن‌ها را به ترتیب طول‌هایشان به یکدیگر وصل می‌کنیم. سپس از آخرین نقطه سمت راست خطی به شیب $m = m_1 + m_2 + \dots + m_n$ و از اولین نقطه سمت چپ خطی به شیب $m' = -(m_1 + m_2 + \dots + m_n)$ رسم می‌کنیم، به گونه‌ای که نمودار حاصل مربوط به یک تابع باشد.

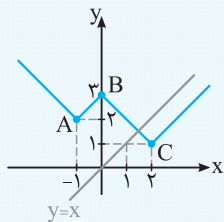
نکته تابع فوق همواره دارای ماکسیمم یا مینیمم (و یا هر دو) می‌باشد که به ازای ریشه‌های درون قدرمطلق‌ها به دست می‌آید.

تست

معادله $|x+1| + |x-2| - |x| = x$ چند جواب دارد؟

- ۱ (۲) ۲ (۳) ۳ (۴) ۴ (۵)

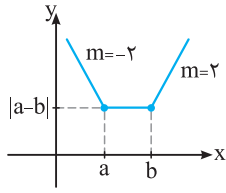
پاسخ: معادله را به روش هندسی حل می‌کنیم. یعنی نمودار توابع $y_1 = |x+1| + |x-2| - |x|$ و $y_2 = x$ را در یک دستگاه رسم می‌کنیم و تعداد نقاط تلاقی آن‌ها را تعیین می‌نماییم.



برای رسم نمودار $y_1 = |x+1| + |x-2| - |x|$ ، نقاط به مختصات $A(-1, 2)$ ، $B(0, 3)$ و $C(2, 1)$ را به ترتیب طول آن‌ها به هم وصل می‌کنیم. توجه کنید که اگر قدرمطلق‌ها برداشته شود، شیب تابع به دست آمده، $m = 1$ خواهد بود. پس آخرین نقطه سمت راست را با شیب $m = 1$ و اولین نقطه سمت چپ را با شیب $m = -1$ امتداد می‌دهیم.

مطابق نمودار رسم شده، خط $y_2 = x$ نمودار $y_1 = |x+1| + |x-2| - |x|$ را در یک نقطه قطع می‌کند و لذا معادله $y_1 = y_2$ فقط یک جواب دارد. پس گزینه (۲) صحیح است.

در ادامه به بررسی دو تابع مهم و معروف به توابع گلدانی و سرسره‌ای می‌پردازیم که حالت‌های خاصی از تابع به فرم $y = m_1|x - a_1| + m_2|x - a_2| + \dots + m_n|x - a_n|$ می‌باشند.

آ) بررسی تابع $y = |x - a| + |x - b|$ 

$$R_f = [|a - b|, +\infty)$$

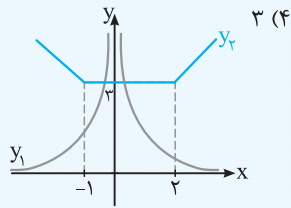
از آن جایی که نمودار این تابع شبیه گلدان است، این تابع به تابع **گلدانی** معروف است.

برای رسم آن، مانند آن چه در حالت کلی فوق گفته شد، نقاط به طول های $x = a$ و $x = b$ را به یکدیگر وصل نموده و ابتدا و انتهای آن را به ترتیب با شیب $m = -2$ و $m = 2$ امتداد می‌دهیم. بنابراین با فرض $0 < a < b$ ، نمودار این تابع به صورت مقابل خواهد بود:

با توجه به نمودار، مینیمم مقدار تابع (کف گلدان) برابر $|a - b|$ است و بنابراین برد این تابع برابر است با:

هم چنین خط $x = \frac{a+b}{2}$ محور تقارن تابع می‌باشد. بدیهی است که اگر $a + b = 0$ باشد، آن‌گاه محور y ها محور تقارن تابع خواهد شد.

تست معادله $|x - 2| + |x + 1| = \frac{1}{x^2}$ چند جواب دارد؟



۲ (۳)

۱ (۲)

صفر (۱)

پاسخ: نمودار توابع $y_1 = \frac{1}{x^2}$ و $y_2 = |x - 2| + |x + 1|$ را رسم کرده و تعداد نقاط تلاقی آن‌ها را می‌شماریم. با توجه به نمودار، معادله داده شده دارای دو جواب است. پس گزینه (۳) صحیح است.

نکته فرض کنید $k \in \mathbb{R}$ ، در این صورت برای حل معادله $|x - a| + |x - b| = k$ ، می‌توان نمودار تابع گلدانی $y = |x - a| + |x - b|$ را با

خط $y = k$ تلاقی داد. با توجه به این که مینیمم مقدار تابع گلدانی (کف گلدان) برابر $|a - b|$ است، یکی از سه حالت زیر اتفاق می‌افتد:

آ) اگر $k < |a - b|$ ، معادله جواب ندارد.

ب) اگر $k = |a - b|$ ، معادله دارای بی‌شمار جواب است و در واقع مجموعه جواب آن برابر $[a, b]$ است ($a < b$).

پ) اگر $k > |a - b|$ ، آن‌گاه معادله دارای دو جواب است و در این حالت جواب‌ها عبارت‌اند از:

$$x = \frac{a + b \pm k}{2}$$

تست مجموع جواب‌های معادله $|x - 2| + |x + 1| = 5$ کدام است؟

۴ (۴)

۳ (۳)

۲ (۲)

۱ (۱)

پاسخ: داریم $a = 2$ و $b = -1$. بنابراین کف گلدان برابر $|a - b| = 3$ و نیز $k = 5$ است. چون $|a - b| < k$ ، به عبارت دیگر چون کف گلدان

پایین‌تر از خط $y = 5$ قرار گرفته است، پس معادله دو جواب دارد که از رابطه $x = \frac{a + b \pm k}{2}$ به دست می‌آید. لذا داریم:

$$x = \frac{a + b \pm k}{2} = \frac{2 - 1 \pm 5}{2} \Rightarrow x_1 = 3 \quad \text{یا} \quad x_2 = -2 \Rightarrow x_1 + x_2 = 1 \Rightarrow \text{گزینه (۱) صحیح است.}$$

تست به ازای کدام مقدار m معادله $|x + 1| + |x| = 2m - 3$ بی‌شمار جواب دارد؟

۴ (۴)

۳ (۳)

۲ (۲)

۱ (۱)

پاسخ: داریم $|a - b| = 1$ و $k = 2m - 3$. برای آن‌که معادله دارای بی‌شمار جواب باشد، باید داشته باشیم:

$$k = |a - b| \Rightarrow 2m - 3 = 1 \Rightarrow m = 2 \Rightarrow \text{گزینه (۲) صحیح است.}$$

تست به ازای چند مقدار صحیح m ، معادله $|x - m| + |x + 2m - 1| = 2m + 1$ جواب ندارد؟

بی‌شمار (۴)

۲ (۳)

۱ (۲)

صفر (۱)

پاسخ: داریم $a = m$ و $b = -2m + 1$. بنابراین کف گلدان برابر $|a - b| = |3m - 1|$ و $k = 2m + 1$ است. شرط آن‌که معادله فاقد جواب باشد،

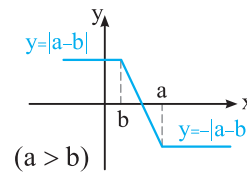
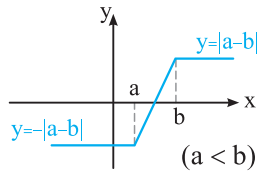
آن است که داشته باشیم:

$$|a - b| > k \Rightarrow |3m - 1| > 2m + 1 \Rightarrow \begin{cases} 3m - 1 > 2m + 1 \\ 3m - 1 < -2m - 1 \end{cases} \Rightarrow \begin{cases} m > 2 \\ m < 0 \end{cases}$$

بنابراین اگر $m \in (-\infty, 0) \cup (2, +\infty)$ ، آن‌گاه معادله فوق جواب ندارد. لذا به ازای بی‌شمار مقدار صحیح m ، معادله فاقد جواب است. پس گزینه (۴) صحیح است.

ب) بررسی تابع $y = |x-a| - |x-b|$

برای رسم این تابع، نقاط به طول‌های $x = a$ و $x = b$ را در دستگاه مختصات به هم وصل کرده و ابتدا و انتهای آن را با شیب $m = 0$ طوری امتداد می‌دهیم که نمودار حاصل، یک تابع را توصیف کند. با فرض مثبت بودن a و b ، نمودار این تابع به یکی از دو صورت زیر است:



همان‌طور که ملاحظه می‌کنید، نمودار این تابع به صورت آبشار یا سرسره می‌باشد، لذا این تابع به تابع آبشاری یا سرسره‌ای نیز معروف است. با توجه به نمودار، بیش‌ترین مقدار و کم‌ترین مقدار این تابع به ترتیب برابر $|a-b|$ و $-|a-b|$ است و لذا برد این تابع برابر $R_f = [-|a-b|, |a-b|]$ است.

هم‌چنین نقطه $W(\frac{a+b}{2}, 0)$ مرکز تقارن تابع است. بدیهی است که اگر $a+b=0$ باشد، مبدأ مختصات مرکز تقارن تابع خواهد شد.

تست برد تابع $f(x) = |x+2| - |x-1|$ کدام است؟

(۱) $[-2, 1]$ (۲) $[-1, 1]$ (۳) $[-2, 2]$ (۴) $[-3, 3]$

پاسخ: داریم $a = -2$ و $b = 1$ ، لذا $|a-b| = 3$ است. بنابراین برد تابع f برابر است با:
 گزینه (۴) صحیح است. $R_f = [-|a-b|, |a-b|] = [-3, 3] \Rightarrow$

تست معادله $\sqrt{x} = |x+1| - |x-2|$ چند جواب دارد؟

(۱) صفر (۲) ۳ (۳) ۲ (۴) ۳

پاسخ: نمودار هر یک از توابع $y_1 = |x+1| - |x-2|$ و $y_2 = \sqrt{x}$ را رسم می‌کنیم. با توجه به نمودار، معادله دارای دو جواب بوده و لذا گزینه (۳) صحیح است.

نکته برای حل معادله $|x-a| - |x-b| = k$ ، $(k \in \mathbb{R})$ ، می‌توان نمودار تابع آبشاری $y = |x-a| - |x-b|$ را با خط $y = k$ تلاقی داد. با توجه به این‌که بیش‌ترین مقدار و کم‌ترین مقدار تابع آبشاری به ترتیب برابر $|a-b|$ و $-|a-b|$ است، یکی از سه حالت زیر اتفاق می‌افتد:
 (آ) اگر $|a-b| < k < |a-b|$ یا $-|a-b| < k < |a-b|$ ، معادله یک جواب دارد.
 (ب) اگر $k = |a-b|$ یا $k = -|a-b|$ و یا به طور معادل اگر $|k| = |a-b|$ ، آن‌گاه معادله بی‌شمار جواب دارد.
 (پ) اگر $k < -|a-b|$ یا $k > |a-b|$ و یا به طور معادل اگر $|k| > |a-b|$ ، معادله جواب ندارد.

تست معادله $|x-2| - |x| = 1$ چند جواب دارد؟

(۱) صفر (۲) ۱ (۳) ۲ (۴) بی‌شمار

پاسخ: داریم $k = 1$ ، $a = 2$ و $b = 0$ ، پس $|a-b| = 2$. چون $|a-b| < k < |a-b|$ ، لذا معادله یک جواب دارد و گزینه (۲) صحیح است.

تست اگر معادله $|x+1| - |x-2| = m+1$ بی‌شمار جواب داشته باشد، مجموع مقادیر m کدام است؟

(۱) -۳ (۲) -۲ (۳) ۱ (۴) ۲

پاسخ: داریم $a = -1$ ، $b = 2$ و $k = m+1$. برای این‌که معادله دارای بی‌شمار جواب باشد، باید داشته باشیم:
 $|a-b| = |k| \Rightarrow |m+1| = 3 \Rightarrow m+1 = 3 \Rightarrow m = 2$ یا $m+1 = -3 \Rightarrow m = -4$
 پس مجموع مقادیر m برابر -2 بوده و لذا گزینه (۲) صحیح است.

تست حدود m برای آن‌که معادله $|x+m+1| - |x-m| = m$ فاقد جواب باشد، کدام است؟

(۱) $-1 < m < -\frac{1}{3}$ (۲) $0 < m < \frac{1}{3}$ (۳) $\frac{1}{3} < m < 1$ (۴) $-\frac{1}{3} < m < 0$

پاسخ: داریم $a = -m-1$ ، $b = m$ و $k = m$. برای این‌که معادله فاقد جواب باشد، باید داشته باشیم:
 $|k| > |a-b| \Rightarrow |m| > |2m+1| \xrightarrow{\text{توان } 2} m^2 > (2m+1)^2 \Rightarrow (2m+1)^2 - m^2 < 0$
 $\Rightarrow (2m+1-m)(2m+1+m) < 0 \Rightarrow (m+1)(3m+1) < 0 \xrightarrow{\text{تعیین علامت}} -1 < m < -\frac{1}{3} \Rightarrow$ گزینه (۱) صحیح است.

۱۷۹. مجموع ریشه‌های معادله $\sqrt{2x-1} + \sqrt{5x^2+4} = x+1$ کدام است؟

- (۱) ۱ (۲) ۲ (۳) $\frac{1}{4}$ (۴) صفر

۱۸۰. معادله $2 = \sqrt{x^2+1} + \sqrt{x^2+4}$ دارای چند ریشه است؟

- (۱) صفر (۲) ۱ (۳) ۲ (۴) ۳

۱۸۱★. معادله $6 = \sqrt{x^2+9} + \sqrt{x^6+4} + \sqrt{x^8+1}$ چند ریشه حقیقی دارد؟

- (۱) ۱ (۲) ۲ (۳) ۳ (۴) صفر

۱۸۲★. معادله $2 = \sqrt{x+2}\sqrt{x-1} + \sqrt{x-2}\sqrt{x-1}$ چند جواب دارد؟

- (۱) صفر (۲) ۱ (۳) ۲ (۴) بی‌شمار

۱۸۳★. معادله $0 = (x^2-1)\sqrt{x^2-4} + x^2 - 3x + 2$ چند ریشه دارد؟

- (۱) ۲ (۲) ۱ (۳) ۳ (۴) ۴

(سراسری ریاضی-۹۴)

۱۸۴. حاصل ضرب ریشه‌های حقیقی معادله $\sqrt{x^2+4x+5} = x^2+4x+3$ کدام است؟

- (۱) -۲ (۲) ۱ (۳) ۲ (۴) ۴

۱۸۵★. معادله $2 = \sqrt{x^2+7x} - \sqrt{2x^2+14x}$ چند جواب دارد؟

- (۱) صفر (۲) ۱ (۳) ۲ (۴) ۳

۱۸۶★. معادله $4 - \sqrt{2x^3+5x^2} - 1 = 1 - \sqrt{x^2+x-2} + 1$ چند جواب دارد؟

- (۱) صفر (۲) ۱ (۳) ۲ (۴) ۳

۱۸۷★. مجموع ارقام جواب معادله $7\sqrt{2} = \sqrt{x-2} + \sqrt{2x-5} + \sqrt{x+2+3\sqrt{2x-5}}$ کدام است؟

- (۱) ۴ (۲) ۵ (۳) ۶ (۴) ۸

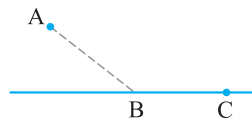
حل مسئله به کمک معادلات گنگ

۱۸۸★. یک مرغ دریایی در نقطه A به ارتفاع ۳ متر از سطح آب قرار دارد. فاصله تصویر مرغ روی آب از ماهی که در نقطه C قرار دارد، ۱۰ متر است. مرغ ابتدا از نقطه A به نقطه B می‌رود و سپس در سطح آب از B به C می‌رود تا ماهی را شکار کند. اگر مرغ دریایی برای طی هر متر در هوا، ۱۴ کیلوکالری و برای طی هر متر در آب، ۱۰ کیلوکالری انرژی مصرف کند، نقطه B در چه فاصله‌ای از C می‌تواند باشد تا مرغ روی هم ۱۳۰ کیلوکالری انرژی مصرف کند؟

(مشابه مسئله صفحه ۲۰ کتاب درسی)

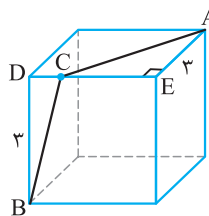
- (۱) ۸/۲۵ (۲) ۷/۷۵

- (۳) ۵ (۴) ۴



۱۸۹★. مطابق شکل، یک عنکبوت در گوشه A از سقف اتاق مکعب شکل که هر ضلع آن ۳ متر است، قرار دارد و می‌خواهد یک حشره را که در گوشه مقابل او (B) روی کف اتاق خوابیده است، شکار کند. عنکبوت مجبور است روی سقف یا کف اتاق و یا دیوارها راه برود و نمی‌تواند پرواز کند، لذا او ابتدا به نقطه C و از آن جا به نقطه B می‌رود. اگر عنکبوت $3\sqrt{5}$ متر برای این مسیر طی کرده باشد، فاصله C از D چند متر است؟

- (۱) ۰/۵ (۲) ۱ (۳) ۱/۲۵ (۴) ۱/۵



قسمت چهارم: قدرمطلق و ویژگی‌های آن

مفهوم قدرمطلق

۱۹۰★. بیش‌ترین مقدار مجموعه $\{a, -a\}$ کدام است؟

- (۱) a (۲) -a (۳) |a| (۴) صفر

۱۹۱★. اگر $a > 0 > b$ باشد، حاصل $|a-b| + |a+1| - |1-b|$ چقدر است؟

- (۱) ۲a (۲) ۲b (۳) ۲a + ۲b (۴) ۲a + ۲b + ۲

۱۹۲★. کدام رابطه همواره درست نیست؟

- (۱) $|a+b| \leq |a| + |b|$ (۲) $|a| - |b| \geq |a-b|$ (۳) $|a| - |b| \leq |a-b|$ (۴) $|a-b| \leq |a| + |b|$

۱۹۳☆ اگر رابطه $|x+y+z| \leq |x| + |y| + |z|$ به رابطه تساوی تبدیل شود، الزاماً سه عدد غیرصفر x ، y و z چگونه‌اند؟ (سراسری تیربی- ۸۶)

- (۱) مساوی هم (۲) هم‌علامت (۳) مثبت (۴) منفی

۱۹۴☆ اگر $x^2 \geq 2x$ باشد، حاصل $A = \sqrt{x^2} + \sqrt{x^2 - 4x + 4}$ کدام است؟

- (۱) -2 (۲) 2 (۳) $2 - 2x$ (۴) $2x - 2$

۱۹۵☆ اگر $2 \geq 3x - x^2$ باشد، حاصل $A = |4x - 1| + |x - 3|$ برابر کدام عدد نمی‌تواند باشد؟

- (۱) 6 (۲) 7 (۳) 8 (۴) 9

۱۹۶☆ اگر فاصله عدد حقیقی x روی محور اعداد حقیقی تا -1 ، کم‌تر از 2 باشد، حاصل $A = |x + 3| + |x - 1|$ کدام است؟

- (۱) 4 (۲) 2 (۳) 1 (۴) 5

۱۹۷☆ کم‌ترین مقدار تابع $f(x) = |x - 5| + |x + 1|$ کدام است؟

- (۱) 1 (۲) 4 (۳) 5 (۴) 6

۱۹۸☆ کم‌ترین مقدار عبارت $A = |x - 1| + |x + 2| + 2|x - 3|$ کدام است؟

- (۱) 5 (۲) 6 (۳) 7 (۴) 8

۱۹۹☆ بیش‌ترین مقدار عبارت $A = |x + 2| - |x - 1|$ کدام است؟

- (۱) صفر (۲) 1 (۳) 2 (۴) 3

۲۰۰☆ در بازه $[a, b]$ رابطه $\sqrt{x + 2\sqrt{x - 1}} + \sqrt{x - 2\sqrt{x - 1}} = 2$ همواره برقرار است. بیش‌ترین مقدار $b - a$ کدام است؟

- (۱) $\frac{1}{2}$ (۲) 1 (۳) $\frac{3}{2}$ (۴) 2

معادلات قدر مطلق

۲۰۱☆ مجموع مربعات طول نقاطی روی محور اعداد حقیقی که فاصله آن نقاط روی محور، از عدد ثابت 3 برابر 2 باشد، کدام است؟ (مشابه مسئله صفحه ۳۶ کتاب درسی)

- (۱) 10 (۲) 13 (۳) 26 (۴) 29

۲۰۲☆ مجموع ریشه‌های معادله $|x - 1| - 2 = 3$ کدام است؟

- (۱) صفر (۲) 1 (۳) 2 (۴) 3

۲۰۳☆ مجموع جواب‌های معادله $|x^2 + x| = |x^2 + 3x - 2|$ کدام است؟ (مشابه کار در کلاس ۲ صفحه ۲۷ کتاب درسی)

- (۱) -1 (۲) صفر (۳) 1 (۴) 2

۲۰۴☆ معادله $|x| = kx$ ؛ $x \neq 0$ ، $k \neq 0$ ، همواره برای x :

- (۱) حداقل یک جواب دارد. (۲) دو جواب دارد. (۳) جواب ندارد. (۴) سه جواب دارد.

۲۰۵☆ به ازای کدام مقادیر k ، معادله $k^2 - 7 = |x + 2| - 2$ دارای سه جواب است؟

- (۱) ± 1 (۲) ± 3 (۳) ± 5 (۴) ± 9

۲۰۶☆ اگر مجموعه جواب معادله $|x + 4| = |x + 5| + |2x + 5|$ یک بازه باشد، طول بازه کدام است؟ (آزمون‌های گاج)

- (۱) $\frac{3}{4}$ (۲) $\frac{3}{2}$ (۳) $\frac{5}{2}$ (۴) $\frac{5}{4}$

۲۰۷☆ در مورد معادله $2|x - 2| + |x| = 3x - 2$ کدام گزینه درست است؟

- (۱) فقط یک جواب دارد. (۲) فقط دو جواب دارد. (۳) فقط سه جواب دارد. (۴) بی‌شمار جواب دارد.

۲۰۸☆ از معادله $|2x^2 + x - 3| = |2x^2 + x + 2|$ نتیجه می‌شود $|x| \leq k$. کوچک‌ترین مقدار k کدام است؟

- (۱) $\frac{3}{2}$ (۲) 1 (۳) $\frac{1}{2}$ (۴) 2

۲۰۹☆ اگر اختلاف دو ریشه معادله $k = |x + 1| + |x - 2|$ برابر 7 باشد، k کدام است؟

- (۱) 1 (۲) 3 (۳) 5 (۴) 7

۲۱۰☆ مجموع ریشه‌های معادله $\max\{x, 2\} + \max\{x, -x\} = x + 6$ کدام است؟

- (۱) -2 (۲) صفر (۳) 2 (۴) 4

۲۱۱☆ حدود m برای آن‌که معادله $|x - 1| - |x + 2| = m - 1$ دارای یک جواب باشد، کدام است؟

- (۱) $0 < m < 1$ (۲) $-1 < m < 0$ (۳) $-3 < m < -1$ (۴) $-2 < m < 4$

☆ ۲۱۲. به ازای چند مقدار m معادله $|x - m| + |x + m - 1| = m + 1$ بی شمار جواب دارد؟

- (۱) صفر (۲) ۱ (۳) ۲ (۴) ۳

☆ ۲۱۳. معادله $\max\{x, |1 - x^2|\} = 1$ چند ریشه حقیقی دارد؟

- (۱) ۱ (۲) ۲ (۳) ۳ (۴) ۴

نامعادلات قدر مطلق

☆ ۲۱۴. مجموعه جواب نامعادله $|2x + 3| < 5$ به صورت بازه (a, b) است. بیشترین مقدار $b - a$ کدام است؟

- (۱) ۴ (۲) ۵ (۳) ۶ (۴) ۷

☆ ۲۱۵. مجموعه جواب نامعادله $|2x - 3| > x$ ، شامل چند عدد صحیح نیست؟

- (۱) ۱ (۲) ۲ (۳) ۳ (۴) بی شمار

☆ ۲۱۶. اگر معادله $|x| = |x^2 - x| + x^2$ و نامعادله $|x - \alpha| \leq \beta$ معادل باشند، $\alpha + \beta$ کدام است؟

- (۱) ۱ (۲) $\frac{1}{2}$ (۳) صفر (۴) ۲

☆ ۲۱۷. در بازه‌ای مقادیر تابع با ضابطه $y = x^2$ کم‌تر از مقادیر تابع با ضابطه $y = |x - 2|$ است. آن بازه کدام است؟

- (۱) $(-2, 1)$ (۲) $(-1, 0)$ (۳) $(-1, 1)$ (۴) $(0, 1)$

(سراسری ریاضی فارغ از کشور- ۹۲)

☆ ۲۱۸. مجموعه جواب نامعادله $|x^2 - 2x| < x$ کدام بازه است؟

- (۱) $(0, 1)$ (۲) $(0, 3)$ (۳) $(1, 2)$ (۴) $(1, 3)$

☆ ۲۱۹. از رابطه $|x + 1| < 1$ نتیجه می‌شود $|3x + 2| < k$ ، کوچک‌ترین مقدار k کدام است؟

- (۱) ۲ (۲) ۳ (۳) ۴ (۴) ۵

☆ ۲۲۰. اگر $|x - 1| < 2$ باشد، کم‌ترین مقدار k که $|\frac{-4}{x+3}| < k$ کدام است؟

- (۱) ۱ (۲) $\frac{2}{3}$ (۳) ۲ (۴) $\frac{4}{3}$

(آزمون‌های گاج)

☆ ۲۲۱. اگر از نامساوی $|x - 2| < 0.01$ ، نامساوی $|x^2 - 4| < m$ نتیجه شود، کم‌ترین مقدار m کدام است؟

- (۱) 0.0301 (۲) 0.0399 (۳) 0.0401 (۴) 0.0499

☆ ۲۲۲. نامعادله $|x^2 - x| < |x|$ با کدام نامعادله زیر معادل است؟

- (۱) $|x + 1| < 1$ (۲) $|x - 1| < 1$ (۳) $|x| < 1$ (۴) $|x| > 1$

(سراسری تجربی- ۹۲)

☆ ۲۲۳. مجموعه جواب نامعادله $|\frac{x-2}{2x+1}| > 1$ کدام است؟

- (۱) $(-\frac{1}{2}, \frac{1}{3}) \cup (-3, -\frac{1}{2})$ (۲) $(-\frac{1}{2}, 1) \cup (-2, -\frac{1}{2})$ (۳) $(-\frac{1}{2}, \frac{1}{3})$ (۴) $(-\frac{1}{2}, -3)$

(سراسری تجربی- ۹۵ با کمی تغییر)

☆ ۲۲۴. مجموعه جواب نامعادله $|\frac{2-x}{2x-3}| > 1$ به صورت کدام بازه است؟

- (۱) $(1, \frac{3}{2})$ (۲) $(\frac{3}{2}, \frac{5}{3}) \cup (1, \frac{3}{2})$ (۳) $(\frac{3}{2}, \frac{5}{3})$ (۴) $(\frac{5}{3}, 2)$

☆ ۲۲۵. اگر مجموعه جواب نامعادله $|2x - |x - 1|| < 3$ به صورت بازه (a, b) باشد، بیشترین مقدار $b - a$ کدام است؟

- (۱) $\frac{7}{3}$ (۲) $\frac{1}{3}$ (۳) ۳ (۴) ۲

☆ ۲۲۶. مجموعه جواب نامعادله $|3x + 1| > |x + 2| + |2x - 1|$ برابر بازه (a, b) است. بیشترین مقدار $b - a$ کدام است؟

- (۱) 0.5 (۲) 1.5 (۳) 2.5 (۴) 3.5

☆ ۲۲۷. نمودار تابع $y = 4 - |x|$ در بازه (a, b) بالاتر از خط به معادله $2y + x = 5$ قرار دارد. بزرگ‌ترین مقدار $b - a$ کدام است؟ (سراسری ریاضی فارغ از کشور- ۸۶)

- (۱) ۳ (۲) ۴ (۳) ۵ (۴) ۶

☆ ۲۲۸. مجموعه جواب نامعادله $x + 3 \leq |x| \leq \frac{1}{3}x + 3$ به کدام صورت است؟

- (۱) $[-4, 2]$ (۲) $[-6, 1]$ (۳) $[-6, 2]$ (۴) $[-2, 6]$

☆ ۲۲۹. مجموعه جواب نامعادله $2x - 2 > |x|(x - 1)$ شامل چند عدد صحیح منفی است؟

- (۱) صفر (۲) ۱ (۳) ۳ (۴) بی شمار

(سراسری ریاضی- ۹۲)

☆ ۲۳۰. مجموعه جواب نامعادله $5 - 2x < |x - 4|$ ، به کدام صورت است؟

- (۱) $(1, 5)$ (۲) $(-\sqrt{6}, 1 + \sqrt{6})$ (۳) $(1, 5) \cup (1 + \sqrt{6}, +\infty)$ (۴) $(-\infty, 1 - \sqrt{6}) \cup (1, 5)$

سراسری تیربی فارغ از کشور- (۹۲)

(۴) (۱,۲)

(۳) (۰,۲)

(۲) (-۱,۲)

(۱) (-۱,۱)

سراسری تیربی فارغ از کشور- (۹۵)

(۴) (۱,۲)

(۳) (-۱,۲)

(۲) (-۱,۱)

(۱) (-۲,۱)

(۴) $(-\infty, 1) \cup (3, +\infty)$

(۳) $[0, +\infty)$

(۲) (۱, ۳)

(۱) $(-\infty, 2)$

(۴) ۳

(۳) $\frac{3}{2}$

(۲) ۲

(۱) $\frac{5}{2}$

۲۳۵☆ مجموعه جواب نامعادله $|x-3| > |2x-1|$ به صورت $|3x+a| > b$ بیان شده است. دوتایی مرتب (a, b) کدام است؟

(۴) (۴, ۳)

(۳) (۳, ۴)

(۲) (۱, ۵)

(۱) (۵, ۱)

سراسری ریاضی فارغ از کشور- (۹۵)

(۴) ۲

(۳) $1/5$

(۲) ۱

(۱) $5/1$

۲۳۶☆ اگر مجموعه جواب نامعادله $|x^2-2| < |x+1|$ بازه (a, b) باشد، طول وسط این بازه کدام است؟

۲۳۷☆ مجموعه جواب دستگاه معادلات $\begin{cases} |x| < 2 \\ |2x-1| < |x| \end{cases}$ کدام است؟

(۴) $\{x : -2 < x < 1\}$

(۳) $\{x : 0 < x < 2\}$

(۲) $\{x : -2 < x < 2\}$

(۱) $\{x : -1 < x < 1\}$

۲۳۸☆ چند عدد صحیح در دستگاه نامعادلات $\begin{cases} x^2 + 3|x| - 4 \leq 0 \\ |\frac{x}{x+1}| > 2 \end{cases}$ صدق می‌کند؟

(۴) بی‌شمار

(۳) ۲

(۲) ۱

(۱) صفر

نمودار توابع شامل قدر مطلق

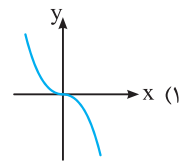
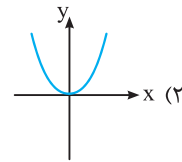
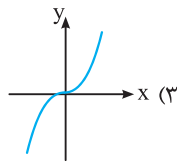
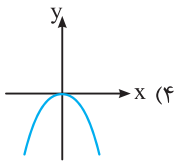
۲۳۹☆ نمودار تابع $y = ||x| - |4x|| - |2x|$ بر نمودار کدام تابع منطبق است؟

(۴) $|2x|$

(۳) $|3x|$

(۲) $|x|$

(۱) $-|x|$



۲۴۰☆ نمودار تابع $y = -x|x|$ شبیه کدام است؟

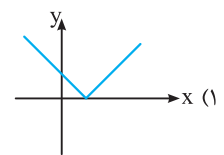
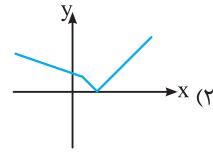
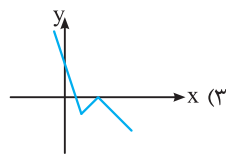
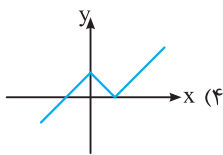
۲۴۱☆ نمودار تابع $y = |x^2 - 1| + \sqrt{2}$ در کدام نواحی محورهای مختصات قرار دارد؟

(۴) اول و دوم

(۳) دوم و سوم

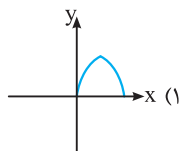
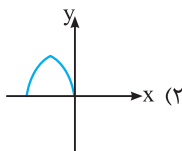
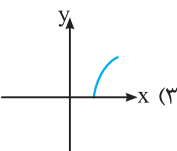
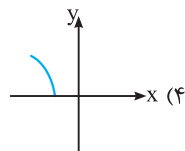
(۲) اول و چهارم

(۱) اول و سوم

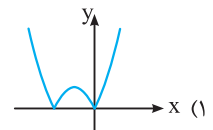
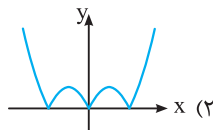
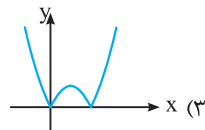
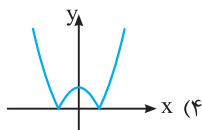


۲۴۲☆ نمودار تابع $y = |x - |x-1|| - x$ شبیه کدام گزینه است؟

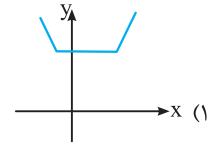
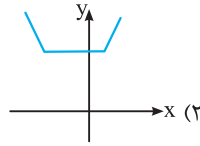
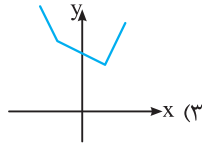
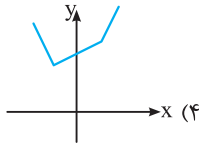
۲۴۳☆ نمودار تابع $y = \sqrt{2 - |x+2|}$ شبیه به کدام گزینه است؟



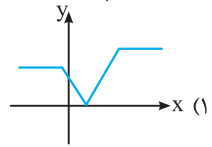
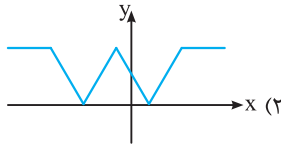
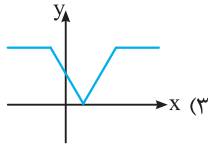
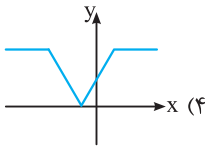
۲۴۴☆ نمودار تابع $y = |x^2 - 2x|$ به کدام صورت است؟



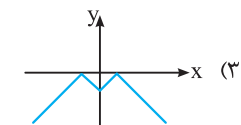
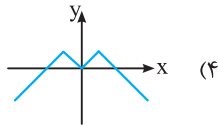
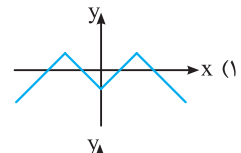
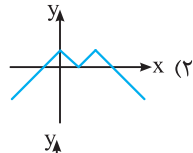
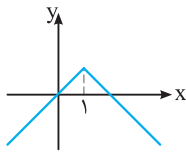
☆ ۲۴۵. نمودار تابع $f(x) = |x+3| + |x-1|$ به کدام صورت زیر است؟



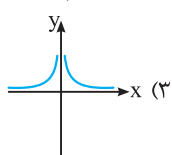
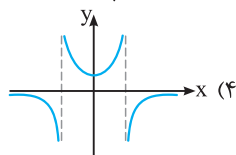
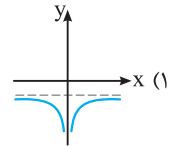
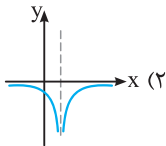
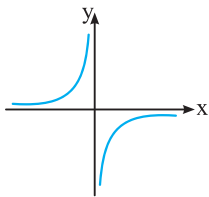
☆ ۲۴۶. نمودار تابع $y = ||x-2| - |x+1||$ به کدام صورت زیر است؟



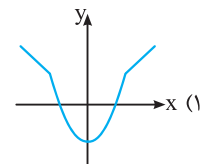
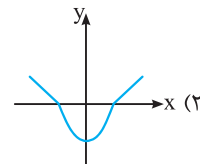
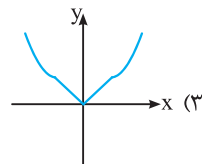
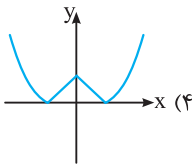
☆ ۲۴۷. اگر نمودار $y = f(x)$ به صورت مقابل باشد، نمودار تابع $y = f(|x-1|)$ کدام است؟



☆ ۲۴۸. اگر نمودار $y = f(x)$ به صورت مقابل باشد، نمودار تابع $y = f(|x-1|)$ به کدام صورت است؟



☆ ۲۴۹. نمودار تابع یا ضابطه $f(x) = \min\{x^2 - 1, |x|\}$ به کدام صورت است؟



☆ ۲۵۰. مساحت ناحیه محدود به نمودار تابع $y = 3|x| + x - 4$ و محور x ها کدام است؟

۴ (۴)

۶ (۳)

۸ (۲)

۱۲ (۱)

(سراسری تجربی فارغ از کشور- ۹۵)

☆ ۲۵۱. مساحت ناحیه محدود به نمودارهای دو تابع $y = |x| - x$ و $y = 2 - \frac{3}{4}x$ کدام است؟

۶ (۴)

$\frac{16}{3}$ (۳)

۴ (۲)

$\frac{8}{3}$ (۱)

(سراسری تجربی- ۹۵)

☆ ۲۵۲. مساحت ناحیه محدود به نمودارهای دو تابع $y = x + |x|$ و $y = 2 - |x|$ کدام است؟

۳ (۴)

$\frac{8}{3}$ (۳)

$\frac{7}{3}$ (۲)

۲ (۱)

☆ ۲۵۳. مساحت ناحیه محدود بین منحنی تابع $f(x) = x + |2x|$ و خط $y = 3$ چند واحد سطح است؟

۷ (۴)

۶ (۳)

۵ (۲)

۴ (۱)

☆ ۲۵۴. مساحت ناحیه محدود به نمودار تابع $f(x) = |x-1| + |x+1|$ و خط $y = 4$ چند واحد سطح است؟

۸ (۴)

۷ (۳)

۶ (۲)

۵ (۱)

☆ ۲۵۵. مساحت ناحیه محدود به نمودار تابع $f(x) = |x+2| - |x|$ و خط $y = x$ چند واحد سطح است؟

۶ (۴)

۵ (۳)

۴ (۲)

۳ (۱)

$$\begin{aligned} & \xrightarrow{\text{توان } 2} (3-x)^2 + 9 = 45 + x^2 + 9 - 6\sqrt{5x^2 + 45} \\ \Rightarrow & x^2 - 6x + 9 + 9 = 45 + x^2 + 9 - 6\sqrt{5x^2 + 45} \\ \Rightarrow & 6\sqrt{5x^2 + 45} = 6x + 36 \xrightarrow{\div 6} \sqrt{5x^2 + 45} = x + 6 \\ \xrightarrow{\text{توان } 2} & 5x^2 + 45 = x^2 + 36 + 12x \\ \Rightarrow & 4x^2 - 12x + 9 = 0 \Rightarrow (2x-3)^2 = 0 \\ \Rightarrow & 2x-3=0 \Rightarrow x = \frac{3}{2} = 1.5 \end{aligned}$$

۱۹۰ (۴ ۳ ۲ ۱)

همواره داریم $\max\{a, -a\} = |a|$

۱۹۱ (۴ ۳ ۲ ۱)

$$b < 0 < a \Rightarrow \begin{cases} b < 0 \Rightarrow -b > 0 \Rightarrow 1-b > 1 \Rightarrow 1-b > 0 \\ 0 < a \Rightarrow 0 < a+1 \\ b < a \Rightarrow 0 < a-b \end{cases}$$

$$|a-b| + |a+1| - |1-b| = a-b+a+1-(1-b) = 2a$$

۱۹۲ (۴ ۳ ۲ ۱)

گزینه‌های (۱)، (۳) و (۴) نامساوی مثلث و نتایج آن را بیان می‌کنند، ولی گزینه (۲) نادرست است. به طور مثال به ازای $a=0$ و $b=1$ ، گزینه (۲) برقرار نیست.

۱۹۳ (۴ ۳ ۲ ۱)

حالت تساوی در نامساوی مثلث وقتی برقرار است که عبارات درون قدرمطلق‌ها هم‌علامت باشند.

۱۹۴ (۴ ۳ ۲ ۱)

$$x^2 \leq 2x \Rightarrow x^2 - 2x \leq 0 \Rightarrow 0 \leq x \leq 2 \Rightarrow \begin{cases} x \geq 0 \\ x \leq 2 \Rightarrow x-2 \leq 0 \end{cases}$$

$$A = \sqrt{x^2} + \sqrt{x^2 - 4x + 4} = |x| + |x-2| = x + 2 - x = 2$$

۱۹۵ (۴ ۳ ۲ ۱)

$$3x - x^2 \geq 2 \Rightarrow x^2 - 3x + 2 \leq 0 \Rightarrow (x-1)(x-2) \leq 0$$

$$\xrightarrow{\text{تعیین علامت}} 1 \leq x \leq 2 \Rightarrow \begin{cases} x-3 < 0 \\ 4x-1 > 0 \end{cases}$$

$$\Rightarrow A = 4x - 1 + 3 - x = 3x + 2$$

چون $1 \leq x \leq 2$ است، پس $3 \leq 3x \leq 6$ و در نتیجه $5 \leq 3x + 2 \leq 8$ می‌تواند باشد. پس حاصل A نمی‌تواند برابر ۹ باشد.

۱۹۶ (۴ ۳ ۲ ۱)

می‌دانیم فاصله دو عدد a و b روی محور اعداد حقیقی برابر $|a-b|$ است. بر این اساس می‌توان نوشت:

$$|x+1| < 2 \Rightarrow -2 < x+1 < 2 \Rightarrow -3 < x < 1$$

$$\Rightarrow \begin{cases} x < 1 \Rightarrow x-1 < 0 \\ -3 < x \Rightarrow x+3 > 0 \end{cases}$$

با استفاده از تعریف قدرمطلق داریم:

$$A = |x+3| + |x-1| = x+3+1-x = 4$$

۱۸۶ (۴ ۳ ۲ ۱)

$$\begin{aligned} \sqrt{x^2 + x - 2} + 1 &= 1 - \sqrt{2x^2 + 5x^2 - 4} \\ \Rightarrow \sqrt{x^2 + x - 2} + \sqrt{2x^2 + 5x^2 - 4} &= 0 \end{aligned}$$

مجموع دو عبارت نامنفی برابر صفر است. پس هر یک از آن‌ها صفر هستند. چون جواب مشترک مدنظر است، پس قسمت ساده‌تر را برابر صفر قرار می‌دهیم:

$$x^2 + x - 2 = 0 \Rightarrow (x+2)(x-1) = 0 \Rightarrow x = 1 \text{ یا } x = -2$$

از بین $x = -2$ و $x = 1$ ، فقط $x = -2$ ریشه $x^2 + 5x^2 - 4 = 0$ می‌باشد. پس $x = -2$ تنها ریشه معادله است.

۱۸۷ (۴ ۳ ۲ ۱)

با فرض $t = \sqrt{2x-5}$ ، به دست می‌آید $x = \frac{t^2+5}{2}$. پس داریم:

$$\sqrt{\frac{t^2+5}{2} - 2 + t} + \sqrt{\frac{t^2+5}{2} + 2 + 3t} = 7\sqrt{2}$$

$$\Rightarrow \sqrt{\frac{t^2+2t+1}{2}} + \sqrt{\frac{t^2+6t+9}{2}} = 7\sqrt{2}$$

$$\Rightarrow \frac{t+1}{\sqrt{2}} + \frac{t+3}{\sqrt{2}} = 7\sqrt{2}$$

$$\Rightarrow t+1+t+3 = 14 \Rightarrow 2t = 10 \Rightarrow t = 5$$

$$\Rightarrow \sqrt{2x-5} = 5 \Rightarrow 2x-5 = 25 \Rightarrow 2x = 30 \Rightarrow x = 15$$

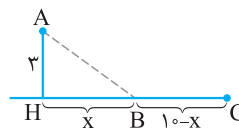
مجموع ارقام عدد ۱۵ برابر $1+5=6$ است.

۱۸۸ (۴ ۳ ۲ ۱)

با توجه به شکل، فاصله B از

تصویر A (یعنی H) را x می‌گیریم. پس

$$AB = \sqrt{x^2 + 9} \text{ و } BC = 10 - x$$



بنابر فرض می‌توان نوشت:

$$14\sqrt{x^2+9} + 10(10-x) = 130$$

$$\xrightarrow{\div 2} 7\sqrt{x^2+9} + 50 - 5x = 65 \Rightarrow 7\sqrt{x^2+9} = 5x + 15$$

$$\xrightarrow{\text{توان } 2} 49(x^2+9) = 25x^2 + 225 + 150x \Rightarrow 24x^2 - 150x + 216 = 0$$

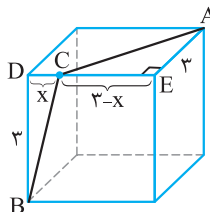
$$\xrightarrow{\div 6} 4x^2 - 25x + 36 = 0 \Rightarrow (x-4)(4x-9) = 0$$

$$\Rightarrow x = 4 \text{ یا } x = \frac{9}{4} = 2.25$$

پس $BC = 10 - 2.25 = 7.75$ یا $BC = 10 - 4 = 6$ که باتوجه به گزینه‌ها، گزینه (۲) صحیح است.

۱۸۹ (۴ ۳ ۲ ۱)

فرض کنیم $DC = x$ باشد، پس $CE = 3 - x$ است. طبق فرض و با توجه به شکل می‌توان نوشت:



$$AC + CB = 3\sqrt{5}$$

$$\Rightarrow \sqrt{(3-x)^2 + 3^2} + \sqrt{x^2 + 3^2} = 3\sqrt{5}$$

$$\Rightarrow \sqrt{(3-x)^2 + 9} = 3\sqrt{5} - \sqrt{x^2 + 9}$$

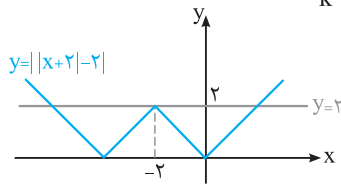
۲۰۴ (۴) (۳) (۲) (۱)

$$x|x| = kx \Rightarrow x|x| - kx = 0 \Rightarrow x(|x| - k) = 0 \Rightarrow \begin{cases} x = 0 \\ |x| = k \end{cases}$$

$x = 0$ یک جواب معادله است. چون $k \neq 0$ ، لذا در صورتی که $k > 0$ باشد، معادله $|x| = k$ دو جواب خواهد داشت که در این صورت معادله $x|x| = kx$ سه جواب دارد و چنانچه $k < 0$ ، معادله $|x| = k$ جواب نخواهد داشت که در این صورت معادله $x|x| = kx$ همان یک جواب $x = 0$ را دارد. پس این معادله حداقل یک جواب دارد.

۲۰۵ (۴) (۳) (۲) (۱)

نمودار $y = ||x+2|-2|$ به صورت زیر است. برای این که معادله $m = ||x+2|-2|$ دارای سه جواب باشد، باید $m = 2$ باشد. پس $k^2 - 7 = 2 \Rightarrow k = \pm 3$



۲۰۶ (۴) (۳) (۲) (۱)

$$|x+1| + |2x+5| = |x+4|$$

$$\frac{|-u|=|u|}{|-x-1| + |2x+5| = |x+4|}$$

می‌دانیم رابطه $|a| + |b| = |a+b|$ وقتی برقرار است که $ab \geq 0$ باشد.

$$(-x-1)(2x+5) \geq 0 \xrightarrow{\text{تعیین علامت}} -\frac{5}{2} \leq x \leq -1$$

$$\Rightarrow \text{طول بازه} = -1 - \left(-\frac{5}{2}\right) = \frac{3}{2}$$

۲۰۷ (۴) (۳) (۲) (۱)

چون سمت چپ معادله نامنفی است، پس لازم است، داشته باشیم $3x - 2 \geq 0$ و در نتیجه $|3x - 2| = 3x - 2$. لذا داریم $|3x - 2| + |x - 2| = |3x + x - 2| = |4x - 2|$. بنابراین رابطه $|a| + |b| = |a+b|$ برقرار است، پس $ab \geq 0$ بنابراین:

$$2x(x-2) \geq 0 \Rightarrow x \geq 2 \text{ یا } x \leq 0$$

از طرفی چون $3x - 2 \geq 0$ ، پس $x \geq \frac{2}{3}$ و در نتیجه مجموعه جواب معادله برابر است با $(\frac{2}{3}, +\infty)$. لذا معادله بی‌شمار جواب دارد.

۲۰۸ (۴) (۳) (۲) (۱)

$$2x^2 + x + |2x^2 + x - 3| = 3 \Rightarrow |2x^2 + x - 3| = -(2x^2 + x - 3)$$

$$\Rightarrow 2x^2 + x - 3 \leq 0 \Rightarrow (x-1)(2x+3) \leq 0 \Rightarrow -\frac{3}{2} \leq x \leq 1$$

$$\frac{a < x < b \Rightarrow |x| < \max\{|a|, |b|\}}{|x| \leq \frac{3}{2}}$$

۲۰۹ (۴) (۳) (۲) (۱)

ابتدا آوری می‌کنیم در حالتی که معادله $|x-a| + |x-b| = k$ دارای دو ریشه است، ریشه‌ها از رابطه $x = \frac{a+b \pm k}{2}$ به دست می‌آیند. پس:

$$x = \frac{2-1 \pm k}{2} \Rightarrow x_1 = \frac{k+1}{2}, x_2 = \frac{1-k}{2}$$

$$\frac{x_1 - x_2 = 7}{\frac{k+1}{2} - \frac{1-k}{2} = 7} \Rightarrow k = 7$$

۱۹۷ (۴) (۳) (۲) (۱)

می‌دانیم $|x-5| = |5-x|$. با استفاده از نامساوی مثلث خواهیم داشت:

$$f(x) = |5-x| + |x+1| \geq |(5-x) + (x+1)| = 6 \Rightarrow f(x) \geq 6$$

۱۹۸ (۴) (۳) (۲) (۱)

می‌توان نوشت $|6-2x| = |2x-6| = 2|x-3|$. لذا بنابر تعمیم نامساوی مثلث داریم:

$$A = |x-1| + |x+2| + |6-2x| \geq |(x-1) + (x+2) + (6-2x)| = 7$$

$$\Rightarrow A \geq 7$$

۱۹۹ (۴) (۳) (۲) (۱)

بنابر یکی از نتایج نامساوی مثلث، یعنی نامساوی $|x-y| \leq |x| + |y|$ داریم:

$$A = |x+2| - |x-1| \leq |(x+2) - (x-1)| = 3 \Rightarrow A \leq 3$$

بنابراین بیش‌ترین مقدار A برابر ۳ بوده و لذا گزینه (۴) صحیح است.

۲۰۰ (۴) (۳) (۲) (۱)

$$\sqrt{(x-1) + 2\sqrt{x-1} + 1} + \sqrt{(x-1) - 2\sqrt{x-1} + 1} = 2$$

$$\Rightarrow \sqrt{(\sqrt{x-1} + 1)^2} + \sqrt{(\sqrt{x-1} - 1)^2} = 2$$

$$\Rightarrow |\sqrt{x-1} + 1| + |\sqrt{x-1} - 1| = 2 \Rightarrow \sqrt{x-1} + 1 + |\sqrt{x-1} - 1| = 2$$

برای این که رابطه فوق همواره درست باشد، باید $|\sqrt{x-1} - 1| = 1 - \sqrt{x-1}$ و

$$\sqrt{x-1} - 1 \leq 0 \Rightarrow \sqrt{x-1} \leq 1$$

$$\Rightarrow 0 \leq x-1 \leq 1 \Rightarrow 1 \leq x \leq 2 \Rightarrow \max(b-a) = 1$$

۲۰۱ (۴) (۳) (۲) (۱)

می‌دانیم فاصله دو نقطه a و b روی محور برابر $|a-b|$ می‌باشد. اگر x

طول نقطه مورد نظر روی محور باشد، طبق فرض داریم:

$$|x - (-3)| = 2 \Rightarrow |x+3| = 2 \Rightarrow \begin{cases} x+3=2 \\ x+3=-2 \end{cases} \Rightarrow \begin{cases} x_1 = -1 \\ x_2 = -5 \end{cases}$$

$$\Rightarrow x_1^2 + x_2^2 = 1 + 25 = 26$$

۲۰۲ (۴) (۳) (۲) (۱)

$$||x-1|-2| = 3 \Rightarrow \begin{cases} |x-1|-2=3 \\ |x-1|-2=-3 \end{cases} \Rightarrow \begin{cases} |x-1|=5 \\ |x-1|=-1 \end{cases}$$

$$|x-1|=5 \Rightarrow \begin{cases} x-1=5 \\ x-1=-5 \end{cases} \Rightarrow \begin{cases} x=6 \\ x=-4 \end{cases} \Rightarrow \text{مجموع ریشه‌ها} = 2$$

۲۰۳ (۴) (۳) (۲) (۱)

$$|x^2 + x| = |x^2 + 3x - 2| \Rightarrow \begin{cases} x^2 + x = x^2 + 3x - 2 \\ x^2 + x = -x^2 - 3x + 2 \end{cases}$$

$$\Rightarrow \begin{cases} x = 1 \\ 2x^2 + 4x - 2 = 0 \end{cases}$$

می‌دانیم اگر معادله $ax^2 + bx + c = 0$ دارای دو جواب باشد،

مجموع جواب‌های آن برابر $-\frac{b}{a}$ است. پس مجموع جواب‌های

معادله $2x^2 + 4x - 2 = 0$ برابر $-\frac{b}{a} = -2$ می‌باشد و لذا مجموع

جواب‌های معادله $|x^2 + x| = |x^2 + 3x - 2|$ برابر ۱- خواهد بود.

۲۱۷ (۴) (۳) (۲) (۱)

$$x^2 < |x-2| \Rightarrow x^2 < (x-2)^2 \Rightarrow x^2 - (x-2)^2 < 0$$

$$\Rightarrow \underbrace{(x^2 - x + 2)}_{\text{همواره مثبت}}(x^2 + x - 2) < 0 \Rightarrow x^2 + x - 2 < 0$$

$$\Rightarrow (x-1)(x+2) < 0 \xrightarrow{\text{تعیین علامت}} x \in (-2, 1)$$

۲۱۸ (۴) (۳) (۲) (۱)

با فرض $x > 0$ می توان نوشت:

$$|x^2 - 2x| < x \Rightarrow -x < x^2 - 2x < x$$

$$\Rightarrow \begin{cases} x^2 - 2x < x \\ x^2 - 2x > -x \end{cases} \Rightarrow \begin{cases} x^2 - 3x < 0 \\ x^2 - x > 0 \end{cases}$$

$$\xrightarrow{\text{تعیین علامت}} \begin{cases} 0 < x < 3 \\ x > 1 \text{ یا } x < 0 \end{cases} \xrightarrow{\text{اشترک}} 1 < x < 3$$

چون تمام مجموعه جواب در شرط $x > 0$ نیز صدق می کند، پس مجموعه جواب (۱، ۳) قابل قبول است.

۲۱۹ (۴) (۳) (۲) (۱)

$$|x+1| < 1 \Rightarrow -1 < x+1 < 1 \Rightarrow -2 < x < 0 \xrightarrow{\times 3} -6 < 3x < 0$$

$$\xrightarrow{+2} -4 < 3x+2 < 2$$

می دانیم اگر $a < x < b$ ، آنگاه $|x| < \max\{|a|, |b|\}$. پس از رابطه اخیر نتیجه می شود:

$$|3x+2| < 4$$

۲۲۰ (۴) (۳) (۲) (۱)

$$|x-1| < 2 \Rightarrow -2 < x-1 < 2 \Rightarrow -1 < x < 3$$

$$\Rightarrow 2 < x+3 < 6 \Rightarrow \frac{1}{6} < \frac{1}{x+3} < \frac{1}{2}$$

$$\Rightarrow -2 < \frac{-4}{x+3} < -\frac{2}{3} \Rightarrow \left| \frac{-4}{x+3} \right| < 2$$

توجه کنید که اگر $a < x < b$ ، آنگاه $|x| < \max\{|a|, |b|\}$

۲۲۱ (۴) (۳) (۲) (۱)

$$|x-2| < 0/01 \Rightarrow -0/01 < x-2 < 0/01$$

$$\Rightarrow 1/99 < x < 2/01 \Rightarrow 3/9601 < x^2 < 4/0401$$

$$\Rightarrow -0/0399 < x^2 - 4 < 0/0401$$

$$\xrightarrow{a < x < b \Rightarrow |x| < \max\{|a|, |b|\}} |x^2 - 4| < 0/0401$$

۲۲۲ (۴) (۳) (۲) (۱)

روش اول:

$$|x^2 - x| < |x| \Rightarrow (x^2 - x)^2 < x^2 \Rightarrow (x^2 - x)^2 - x^2 < 0$$

$$\Rightarrow (x^2 - x - x)(x^2 - x + x) < 0 \Rightarrow x^2(x^2 - 2x) < 0$$

$$\xrightarrow{\text{تعیین علامت}} 0 < x < 2 \Rightarrow -1 < x-1 < 1 \Rightarrow |x-1| < 1$$

روش دوم: $x=1$ مثال نقض برای گزینه های (۱)، (۳) و (۴) است.

۲۱۰ (۴) (۳) (۲) (۱)

$$2 \max\{x, 2\} + \max\{x, -x\} = x + 6$$

$$\Rightarrow 2\left(\frac{x+2}{2} + \frac{|x-2|}{2}\right) + |x| = x + 6 \Rightarrow |x-2| + |x| = 4$$

می دانیم معادله $|x-a| + |x-b| = k$ ، با شرط $k > |a-b|$ دو جواب دارد که از رابطه $x = \frac{a+b \pm k}{2}$ به دست می آیند. پس جواب های معادله برابر

است با: $x_1, x_2 = \frac{2+0 \pm 4}{2} \Rightarrow x_1 = 3, x_2 = -1 \Rightarrow x_1 + x_2 = 2$

۲۱۱ (۴) (۳) (۲) (۱)

برای آن که معادله $|x-a| + |x-b| = k$ دارای یک جواب باشد، لازم است داشته باشیم $|a-b| < k < |a+b|$ بنابراین داریم $k = m-1$ و $b = -2, a = 1$ پس $|a-b| = 3$ است، در نتیجه:

$$-3 < m-1 < 3 \Rightarrow -2 < m < 4$$

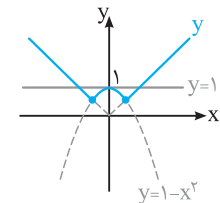
۲۱۲ (۴) (۳) (۲) (۱)

شرط آن که معادله $|x-a| + |x-b| = k$ دارای بی شمار جواب باشد، آن است که $|a-b| = k$. چون $a = m$ و $b = -m+1$ و $k = m+1$ ، پس:

$$|a-b| = k \Rightarrow |m - (-m+1)| = m+1 \Rightarrow |2m-1| = m+1$$

$$\Rightarrow \begin{cases} 2m-1 = m+1 \\ 2m-1 = -m-1 \end{cases} \Rightarrow \begin{cases} m=2 \\ m=0 \end{cases}$$

۲۱۳ (۴) (۳) (۲) (۱)



نمودار تابع $y = \max\{|x|, 1-x^2\}$ به صورت روبه رو است. مطابق شکل، خط $y=1$ این نمودار را در سه نقطه قطع می کند.

۲۱۴ (۴) (۳) (۲) (۱)

$$|2x+3| < 5 \Rightarrow -5 < 2x+3 < 5 \xrightarrow{-3} -8 < 2x < 2$$

$$\xrightarrow{\div 2} -4 < x < 1 \Rightarrow x \in (-4, 1)$$

پس $(a, b) = (-4, 1)$ و لذا بیشترین مقدار $b-a$ برابر ۵ است.

۲۱۵ (۴) (۳) (۲) (۱)

$$|2x-3| > x \Rightarrow \begin{cases} 2x-3 > x \\ 2x-3 < -x \end{cases} \Rightarrow \begin{cases} x > 3 \\ 3x < 3 \end{cases} \Rightarrow \begin{cases} x > 3 \\ x < 1 \end{cases}$$

$$\Rightarrow x \in (-\infty, 1) \cup (3, +\infty)$$

پس مجموعه جواب این نامعادله شامل سه عدد صحیح، ۱، ۲ و ۳ نیست.

۲۱۶ (۴) (۳) (۲) (۱)

$$|x^2 - x| + x^2 = |x| \xrightarrow{|x^2|=x^2} |x-x^2| + |x^2| = |x|$$

با فرض $a = x - x^2$ و $b = x^2$ ، معلوم می شود که $a+b = x$ و لذا رابطه $|a+b| = |a| + |b|$ برقرار است، پس باید $ab \geq 0$

$$ab \geq 0 \Rightarrow (x-x^2)x^2 \geq 0 \Rightarrow x-x^2 \geq 0 \xrightarrow{\text{تعیین علامت}} 0 \leq x \leq 1$$

$$\Rightarrow |x - \frac{1}{p}| \leq \frac{1}{p} \Rightarrow \alpha = \frac{1}{p}, \beta = \frac{1}{p} \Rightarrow \alpha + \beta = 1$$

۲۲۸ (۴) (۳) (۲) (۱)

$$x \geq 0: x + x \leq \frac{1}{4}x + 3 \Rightarrow 2x \leq \frac{1}{4}x + 3$$

$$\Rightarrow \frac{3}{4}x \leq 3 \Rightarrow x \leq 4 \xrightarrow{x \geq 0} 0 \leq x \leq 4 \quad (1)$$

$$x < 0: x - x \leq \frac{1}{4}x + 3 \Rightarrow \frac{1}{4}x + 3 \geq 0$$

$$\Rightarrow \frac{1}{4}x \geq -3 \Rightarrow x \geq -12 \xrightarrow{x < 0} -12 \leq x < 0 \quad (2)$$

$$(1) \cup (2) \Rightarrow \text{مجموعه جواب} = [-12, 4]$$

تذکر این تست را می‌توانید با عددگذاری نیز حل کنید.

۲۲۹ (۴) (۳) (۲) (۱)

دو حالت در نظر می‌گیریم:

حالت اول: اگر $x \geq 0$ ، آن‌گاه $x = |x|$. پس:

$$x(x-1) > 2x-2 \Rightarrow x^2 - 2x + 2 > 0 \Rightarrow (x-2)(x-1) > 0$$

$$\xrightarrow{\text{تعیین علامت}} x > 2 \text{ یا } x < 1$$

چون در این حالت باید $x \geq 0$ ، پس مجموعه جواب در این حالت برابر است با $(2, +\infty) \cup (0, 1)$ (۱)

حالت دوم: اگر $x < 0$ ، آن‌گاه $x = -|x|$. پس:

$$-x(x-1) > 2x-2 \Rightarrow x^2 + x - 2 < 0 \Rightarrow (x+2)(x-1) < 0$$

$$\xrightarrow{\text{تعیین علامت}} -2 < x < 1 \xrightarrow{x < 0} -2 < x < 0 \Rightarrow x \in (-2, 0) \quad (2)$$

مجموعه جواب نامعادله برابر اجتماع مجموعه جواب‌های (۱) و (۲) است. پس مجموعه جواب برابر است با $(-2, 0) \cup (2, +\infty)$ ، بدیهی است تنها عدد منفی و صحیح که در این نامعادله صدق می‌کند، $x = -1$ است.

۲۳۰ (۴) (۳) (۲) (۱)

$$x \geq 0: (x-4)(x) < 2x-5$$

$$\Rightarrow x^2 - 6x + 5 < 0 \xrightarrow{\text{تعیین علامت}} 1 < x < 5 \quad (1)$$

$$x < 0: (x-4)(-x) < 2x-5 \Rightarrow x^2 - 2x - 5 > 0$$

$$\xrightarrow{\text{تعیین علامت}} x > 1 + \sqrt{6} \text{ یا } x < 1 - \sqrt{6} \xrightarrow{x < 0} x < 1 - \sqrt{6} \quad (2)$$

$$(1) \cup (2) \Rightarrow \text{مجموعه جواب} = (-\infty, 1 - \sqrt{6}) \cup (1, 5)$$

توجه کنید که این تست را می‌توان با عددگذاری نیز حل کرد. به عنوان مثال نامعادله به ازای $x = -3$ برقرار است و $x = -3$ فقط به مجموعه جواب گزینه (۴) تعلق دارد.

۲۳۱ (۴) (۳) (۲) (۱)

$$x \geq 2: x^2 - 2x < x - 2 \Rightarrow x^2 - 3x + 2 < 0$$

$$\xrightarrow{\text{تعیین علامت}} 1 < x < 2 \xrightarrow{x \geq 2} x \in \emptyset \quad (1)$$

$$x < 2: x^2 - 2x < -x + 2 \Rightarrow x^2 - x - 2 < 0$$

$$\xrightarrow{\text{تعیین علامت}} -1 < x < 2 \xrightarrow{x < 2} -1 < x < 2 \quad (2)$$

اجتماع مجموعه جواب‌های (۱) و (۲) که برابر بازه $(-1, 2)$ است، مجموعه جواب نامعادله می‌باشد.

تذکر به کمک عددگذاری نیز به آسانی می‌توانید مجموعه جواب نامعادله را تعیین کنید.

۲۲۳ (۴) (۳) (۲) (۱)

روش اول:

$$\left| \frac{x-2}{2x+1} \right| > 1 \Rightarrow \left| \frac{x-2}{2x+1} \right| > 1$$

$$\xrightarrow{x \neq -\frac{1}{2}} |2x+1| < |x-2| \Rightarrow (2x+1)^2 < (x-2)^2$$

$$\Rightarrow (2x+1)^2 - (x-2)^2 < 0 \Rightarrow (2x+1+x-2)(2x+1-x+2) < 0$$

$$\Rightarrow (3x-1)(x+3) < 0 \xrightarrow{\text{تعیین علامت}} -3 < x < \frac{1}{3}, x \neq -\frac{1}{2}$$

$$\Rightarrow x \in (-3, -\frac{1}{2}) \cup (-\frac{1}{2}, \frac{1}{3})$$

روش دوم: به ازای $x = -2$ ، نامعادله فرض برقرار است. لذا یکی از گزینه‌های (۱) یا (۴) درست است. هم‌چنین به ازای $x = 0$ نیز نامعادله فرض برقرار است. لذا گزینه (۱) صحیح است.

۲۲۴ (۴) (۳) (۲) (۱)

$$\left| \frac{2-x}{2x-3} \right| > 1 \Rightarrow \left| \frac{2-x}{2x-3} \right| > 1 \xrightarrow{x \neq \frac{3}{2}} |2-x| > |2x-3|$$

$$\xrightarrow{\text{توان}} (2-x)^2 < (2x-3)^2 \Rightarrow (2x-3)^2 - (2-x)^2 < 0$$

$$\xrightarrow{\text{انحد مزدوج}} (2x-3-2+x)(2x-3+2-x) < 0$$

$$\Rightarrow (3x-5)(x-1) < 0 \xrightarrow{\text{تعیین علامت}} 1 < x < \frac{5}{3}$$

از طرفی $x \neq \frac{3}{2}$ است، پس مجموعه جواب نامعادله عبارت است از:

$$\left(1, \frac{5}{3}\right) - \left\{\frac{3}{2}\right\} = \left(1, \frac{3}{2}\right) \cup \left(\frac{3}{2}, \frac{5}{3}\right)$$

۲۲۵ (۴) (۳) (۲) (۱)

$$x \geq 1: |2x - (x-1)| < 3 \Rightarrow |x+1| < 3$$

$$\Rightarrow -3 < x+1 < 3 \Rightarrow -4 < x < 2 \xrightarrow{x \geq 1} 1 \leq x < 2 \quad (1)$$

$$x < 1: |2x - (1-x)| < 3 \Rightarrow |3x-1| < 3$$

$$\Rightarrow -3 < 3x-1 < 3 \Rightarrow -\frac{2}{3} < x < \frac{4}{3} \xrightarrow{x < 1} -\frac{2}{3} < x < 1 \quad (2)$$

با اجتماع‌گیری از مجموعه جواب‌های (۱) و (۲) به بازه $(-\frac{2}{3}, 2)$ می‌رسیم. پس بیش‌ترین مقدار $b-a$ برابر $\frac{1}{3} - (-\frac{2}{3}) = \frac{1}{3} + \frac{2}{3} = 1$ است.

۲۲۶ (۴) (۳) (۲) (۱)

رابطه $|a| + |b| > |a+b|$ وقتی برقرار است که $ab < 0$. پس:

$$(2x-1)(x+2) < 0 \xrightarrow{\text{تعیین علامت}} -2 < x < \frac{1}{2}$$

$$\Rightarrow \max(b-a) = \frac{1}{2} - (-2) = \frac{5}{2} = 2.5$$

۲۲۷ (۴) (۳) (۲) (۱)

چون نمودار تابع $y = 4 - |x|$ بالاتر از نمودار خط $y = \frac{5-x}{4}$ قرار دارد، پس:

$$4 - |x| > \frac{5-x}{4} \Rightarrow 2|x| - x < 3$$

$$x \geq 0: 2x - x < 3 \Rightarrow x < 3 \xrightarrow{x \geq 0} 0 \leq x < 3 \quad (1)$$

$$x < 0: -2x - x < 3 \Rightarrow x > -1 \xrightarrow{x < 0} -1 < x < 0 \quad (2)$$

$$(1) \cup (2) \Rightarrow \text{مجموعه جواب} = (-1, 3)$$

$$\Rightarrow \max(b-a) = 3 - (-1) = 4$$

مطابق شکل، فقط در بازه (a, b) ، نمودار $y = |x^2 - 2|$ پایین تر از نمودار $y = |x + 1| - 1$ قرار می‌گیرد و در نتیجه نامعادله $|x^2 - 2| < |x + 1| - 1$ برقرار می‌شود.

با توجه به شکل، a و b مثبت‌اند. پس به ازای a و b عبارت $x + 1$ مثبت است. پس $|x + 1| = x + 1$ اما داریم $b < \sqrt{2} < a$ پس به ازای a ، $x^2 - 2$ منفی و به ازای b ، $x^2 - 2$ مثبت است. پس:

$$0 < x < \sqrt{2} : -x^2 + 2 = x + 1 - 1 \Rightarrow x^2 + x - 2 = 0$$

$$\Rightarrow x = 1 \text{ یا } x = -2 \xrightarrow{0 < x < \sqrt{2}} a = 1$$

$$x > \sqrt{2} : x^2 - 2 = x + 1 - 1 \Rightarrow x^2 - x - 2 = 0$$

$$\Rightarrow x = -1 \text{ یا } x = 2 \xrightarrow{x > \sqrt{2}} b = 2$$

$$(a, b) = (1, 2) = \text{مجموعه جواب نامعادله}$$

$$\Rightarrow \text{طول وسط بازه} = \frac{1+2}{2} = \frac{3}{2} = 1.5$$

۲۳۷ (۱) (۲) (۳) (۴)

از نامعادله $|x| < 2$ نتیجه می‌شود: (۱) $-2 < x < 2$

برای حل نامعادله دوم دو حالت در نظر می‌گیریم:

$$\begin{cases} x \geq 0 \Rightarrow 2x - 1 < x \Rightarrow x < 1 \xrightarrow{x \geq 0} 0 \leq x < 1 \\ x < 0 \Rightarrow 2x - 1 < -x \Rightarrow x < \frac{1}{3} \xrightarrow{x < 0} x < 0 \end{cases} \Rightarrow x < 1 \quad (2)$$

$$(1) \cap (2) \Rightarrow \text{مجموعه جواب دستگاه} = (-2, 1)$$

۲۳۸ (۱) (۲) (۳) (۴)

هر یک از نامعادلات دستگاه را حل کرده و بین آن‌ها اشتراک می‌گیریم:

$$x^2 + 3|x| - 4 \leq 0 \Rightarrow |x|^2 + 3|x| - 4 \leq 0$$

$$\Rightarrow (|x| + 4)(|x| - 1) \leq 0$$

$$\xrightarrow{|x| + 4 > 0} |x| - 1 \leq 0 \Rightarrow |x| \leq 1 \Rightarrow -1 \leq x \leq 1 \quad (1)$$

$$\left| \frac{x}{x+1} \right| > 2 \Rightarrow \frac{|x|}{|x+1|} > 2 \xrightarrow{\text{بافرض } x \neq -1} 2|x+1| < |x|$$

$$\xrightarrow{\text{توان}} (2(x+1))^2 < x^2$$

$$\Rightarrow (2(x+1))^2 - x^2 < 0 \xrightarrow{\text{اتحاد مزدوج}} (2x+2+x)(2x+2-x) < 0$$

$$\Rightarrow (3x+2)(x+2) < 0 \xrightarrow{\text{تعیین علامت}} -2 < x < -\frac{2}{3}, x \neq -1 \quad (2)$$

با اشتراک‌گیری بین مجموعه جواب‌های به دست آمده در (۱) و (۲) به مجموعه جواب $(-\frac{2}{3}, -1) \cup (-1, 2)$ دست خواهیم یافت که شامل هیچ عدد صحیحی نمی‌باشد.

۲۳۹ (۱) (۲) (۳) (۴)

$$y = ||x| - 4|x|| - 2|x| = |3|x|| - 2|x|$$

$$= 3|x| - 2|x| = |x|$$

۲۴۰ (۱) (۲) (۳) (۴)

ضابطه تابع را می‌توان به صورت $y = \begin{cases} -x^2 & x \geq 0 \\ x^2 & x < 0 \end{cases}$ نوشت. بنابراین نمودار آن به صورت گزینه (۱) است.

۲۳۲ (۱) (۲) (۳) (۴)

بدیهی است که $x^2 + 1 > 0$ ، پس $|x^2 + 1| = x^2 + 1$

$$x \geq 2 : 2x + 1 - x + 2 > x^2 + 1 \Rightarrow x^2 - x - 2 < 0$$

$$\Rightarrow (x-2)(x+1) < 0 \xrightarrow{\text{تعیین علامت}} -1 < x < 2$$

اشتراک مجموعه جواب به دست آمده با شرط اولیه یعنی $x \geq 2$ ، تهی است. پس نامعادله در این حالت جواب ندارد.

$$x < 2 : 2x + 1 + x - 2 > x^2 + 1 \Rightarrow x^2 - 3x + 2 < 0$$

$$\Rightarrow (x-1)(x-2) < 0 \xrightarrow{\text{تعیین علامت}} 1 < x < 2$$

مجموعه جواب به دست آمده در شرط اولیه $x < 2$ نیز صدق می‌کند. پس بازه $(1, 2)$ مجموعه جواب نامعادله می‌باشد.

تذکر با عددگذاری نیز می‌توان این تست را حل نمود. به طور مثال $x = 0$ در نامعادله صدق نمی‌کند. پس مجموعه جواب نامعادله نباید شامل $x = 0$ باشد و تنها بازه ارائه شده در گزینه (۴)، $x = 0$ را ندارد.

۲۳۳ (۱) (۲) (۳) (۴)

عدد $x = 2$ در نامعادله صدق نمی‌کند. پس مجموعه جواب نامعادله شامل $x = 2$ نیست. لذا گزینه (۴) درست است.

تذکر در حالت کلی می‌توان این نامعادله را با حالت‌بندی حل کرد.

۲۳۴ (۱) (۲) (۳) (۴)

$$|x-2| < ||x|-4| \xrightarrow{\text{توان}} (x-2)^2 < (|x|-4)^2$$

$$\Rightarrow x^2 - 4x + 4 < x^2 - 8|x| + 16$$

$$\Rightarrow 8|x| - 4x < 12 \Rightarrow 2|x| - x < 3$$

$$x \geq 0 \Rightarrow x < 3 \xrightarrow{x \geq 0} 0 \leq x < 3 \quad (1)$$

$$x < 0 \Rightarrow -3x < 3 \Rightarrow x > -1 \xrightarrow{x < 0} -1 < x < 0 \quad (2)$$

بین دو حالت (۱) و (۲) اجتماع می‌گیریم. پس مجموعه جواب نامعادله به صورت $-1 < x < 3$ می‌باشد. بنابراین داریم:

$$|x| < \max\{|-1|, |3|\} = 3 \Rightarrow |x| < 3$$

۲۳۵ (۱) (۲) (۳) (۴)

$$|2x-1| > |x-3| \Rightarrow (2x-1)^2 > (x-3)^2$$

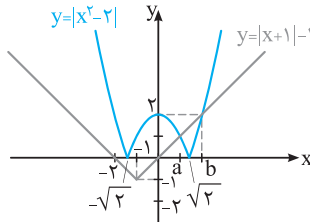
$$\Rightarrow (2x-1)^2 - (x-3)^2 > 0 \Rightarrow (3x-4)(x+2) > 0 \Rightarrow x > \frac{4}{3} \text{ یا } x < -2$$

از طرفین نامساوی‌ها میانگین دو عدد -2 و $\frac{4}{3}$ یعنی $-\frac{1}{3}$ را کم می‌کنیم:

$$\begin{cases} x + \frac{1}{3} > \frac{5}{3} \\ x + \frac{1}{3} < -\frac{5}{3} \end{cases} \Rightarrow \begin{cases} |x + \frac{1}{3}| > \frac{5}{3} \\ |x + \frac{1}{3}| < -\frac{5}{3} \end{cases} \xrightarrow{\times 3} \begin{cases} |3x+1| > 5 \\ |3x+1| < -5 \end{cases}$$

با مقایسه $|3x+1| > 5$ و $|3x+a| > b$ معلوم می‌شود که $a = 1$ و $b = 5$ و لذا دوتایی مرتب (a, b) برابر $(1, 5)$ است.

۲۳۶ (۱) (۲) (۳) (۴)



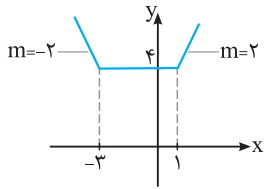
نمودار توابع $y = |x^2 - 2|$ و

$y = |x + 1| - 1$ را در یک

دستگاه رسم می‌کنیم:

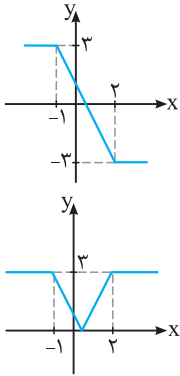
۲۴۵ (۴) (۳) (۲) (۱)

برای رسم تابع گلدانی f ، کافی است نقاط به طول‌های ریشه‌های درون قدرمطلق‌ها که در این جا نقاط به طول‌های $x=1$ و $x=-3$ هستند را به



هم وصل کنیم و سمت راست را با شیب ۲ و سمت چپ را با شیب -2 به گونه‌ای امتداد دهیم که نمودار حاصل مربوط به یک تابع باشد. پس نمودار به صورت مقابل خواهد بود.

۲۴۶ (۴) (۳) (۲) (۱)

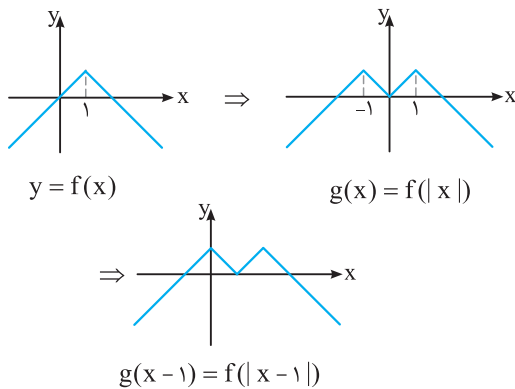


نمودار تابع سرسره‌ای $f(x) = |x-2| - |x+1|$ به صورت مقابل است:

حال برای رسم نمودار $y = |f(x)| = ||x-2| - |x+1||$ کافی است بخش‌هایی از نمودار $f(x)$ که زیر محور x قرار دارد را نسبت به محور x ها قرینه نماییم. پس نمودار آن به صورت مقابل خواهد بود:

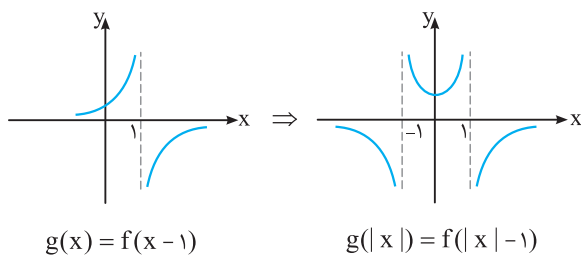
۲۴۷ (۴) (۳) (۲) (۱)

ابتدا کافی است نمودار $g(x) = f(|x|)$ را رسم کنید. سپس برای رسم نمودار $g(x-1) = f(|x-1|)$ ، نمودار $g(x) = f(|x|)$ را یک واحد در راستای محور x ها به سمت راست منتقل نمایید.



۲۴۸ (۴) (۳) (۲) (۱)

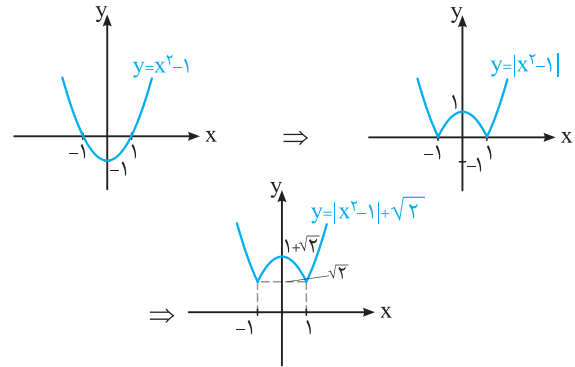
برای رسم $g(x) = f(x-1)$ نمودار f را یک واحد در راستای محور x ها به سمت راست منتقل می‌کنیم و برای رسم $g(|x|) = f(|x|-1)$ بخش سمت چپ محور y ها را در نمودار g حذف کرده و قرینه سمت راست آن را نسبت به محور y ها، در سمت چپ این محور رسم می‌کنیم.



۲۴۱ (۴) (۳) (۲) (۱)

روش اول: می‌دانیم $|x^2-1| + \sqrt{2} > 0$ پس تابع $y = |x^2-1| + \sqrt{2}$ بالای محور x ها قرار دارد و چون دامنه این تابع \mathbb{R} می‌باشد، لذا از نواحی اول و دوم می‌گذرد.

روش دوم: ابتدا نمودار $y = |x^2-1|$ را رسم می‌کنیم، سپس آن را به اندازه $\sqrt{2}$ واحد در راستای محور y ها به بالا منتقل می‌کنیم. برای رسم $y = |x^2-1| + \sqrt{2}$ ، کافی است، نمودار $f(x) = |x^2-1|$ را رسم کرده و قسمتی از نمودار این تابع که در زیر محور x ها واقع است، نسبت به محور x ها قرینه شود. فرآیند رسم نمودار $y = |x^2-1| + \sqrt{2}$ در زیر آمده است:



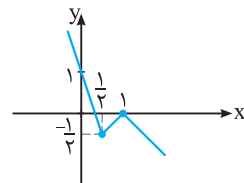
مطابق شکل، نمودار $y = |x^2-1| + \sqrt{2}$ فقط از نواحی اول و دوم دستگاه مختصات عبور می‌کند.

۲۴۲ (۴) (۳) (۲) (۱)

ابتدا تابع را به صورت چندضابطه‌ای می‌نویسیم و سپس نمودار آن را رسم می‌کنیم.

$$y = |x - |x-1|| - x = \begin{cases} 1-x & ; x \geq 1 \\ |2x-1| - x & ; x < 1 \end{cases}$$

$$\Rightarrow y = \begin{cases} 1-x & ; x \geq 1 \\ x-1 & ; \frac{1}{2} \leq x < 1 \\ 1-2x & ; x < \frac{1}{2} \end{cases}$$



پس نمودار این تابع به صورت مقابل است:

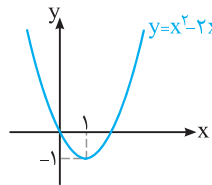
۲۴۳ (۴) (۳) (۲) (۱)

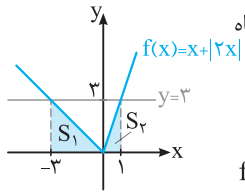
کافی است توجه کنید که دامنه تابع $y = \sqrt{2-|x+2|}$ برابر بازه $[-4, 0]$ است. زیرا:

$$2 - |x+2| \geq 0 \Rightarrow |x+2| \leq 2 \Rightarrow -2 \leq x+2 \leq 2 \Rightarrow -4 \leq x \leq 0$$

۲۴۴ (۴) (۳) (۲) (۱)

نمودار تابع $f(x) = x^2 - 2x = (x-1)^2 - 1$ به صورت روبه‌رو است. بنابراین نمودار تابع $y = |f(x)| = |x^2 - 2x|$ به صورت نمودار ارائه‌شده در گزینه (۳) خواهد بود.





نمودار تابع f و خط $y = 3$ را در یک دستگاه مختصات رسم می‌کنیم:

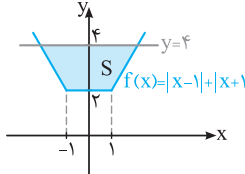
نقاط برخورد نمودارهای دو تابع را می‌یابیم:

$$f(x) = 3 \Rightarrow \begin{cases} 3x = 3 \Rightarrow x = 1 \\ -x = 3 \Rightarrow x = -3 \end{cases}$$

با توجه به شکل، مساحت محدود بین نمودار تابع f و خط $y = 3$ برابر است با:

$$S_1 + S_2 = \frac{1}{2} \times 3 \times 3 + \frac{1}{2} \times 1 \times 3 = \frac{9}{2} + \frac{3}{2} = \frac{12}{2} = 6$$

۲۵۴



نمودار تابع گلدانی f و خط $y = 4$ را در یک دستگاه مختصات رسم می‌کنیم:

با توجه به شکل، باید مساحت قسمت رنگی که یک دوزنقه است را بیابیم.

برای این منظور لازم است، طول نقاط تلاقی خط $y = 4$ و نمودار تابع f را به دست آوریم.

می‌دانیم اگر $k > |a - b|$ باشد، معادله $|x - a| + |x - b| = k$ دارای دو جواب به صورت $x = \frac{a + b \pm k}{2}$ می‌باشد. پس ریشه‌های

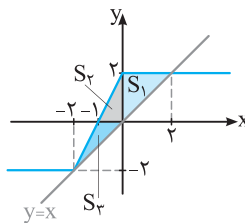
معادله $|x - 1| + |x + 1| = 4$ برابر است با:

$$x = \frac{1 - 1 \pm 4}{2} \Rightarrow x = \pm 2$$

بنابراین داریم:

$$S = \frac{(2 + 4) \times 2}{2} = 6$$

۲۵۵



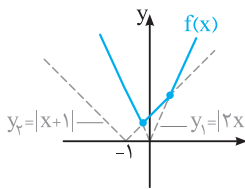
نمودار تابع سرسره‌ای f و خط $y = x$ را در یک دستگاه رسم می‌کنیم:

مطابق شکل مساحت قسمت رنگی برابر است با:

$$S = S_1 + S_2 + S_3 = \frac{1}{2} \times 2 \times 2 + \frac{1}{2} \times 1 \times 2 + \frac{1}{2} \times 1 \times 2 = 4$$

۲۵۶

نمودار تابع f را رسم می‌کنیم. برای این منظور، پس از رسم $y_1 = |2x|$ و $y_2 = |x + 1|$ بخش‌هایی از دو نمودار را که یکی از آن‌ها بالاتر از دیگری



قرار دارد، نگه داشته و بقیه را حذف می‌کنیم.

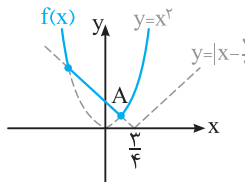
با توجه به نمودار، کم‌ترین مقدار f در

نقطه تلاقی دو تابع $y_1 = |2x|$ و $y_2 = |x + 1|$ در بازه $(-1, 0)$ قرار دارد.

$$|x + 1| = |2x| \xrightarrow{-1 < x < 0} x + 1 = -2x \Rightarrow x = -\frac{1}{3}$$

$$\Rightarrow \min(f) = f(-\frac{1}{3}) = \frac{2}{3}$$

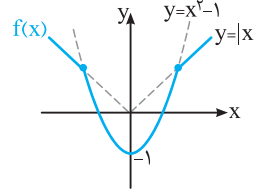
۲۵۷



به کمک رسم نمودارهای $y = x^2$ و $y = |x - \frac{3}{4}|$ و نمودار تابع f را رسم می‌کنیم.

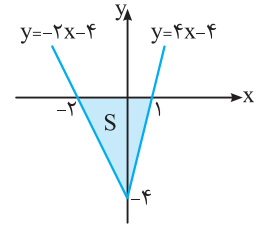
۲۴۹

کافی است نمودار هر یک از توابع $y = |x|$ و $y = x^2 - 1$ را در یک دستگاه مختصات رسم نموده و در هر قسمت نمودار تابعی را که پایین‌تر از دیگری قرار دارد، نگه داریم و بقیه را حذف کنیم.



پس با توجه به نمودار مقابل، گزینه (۱) صحیح است.

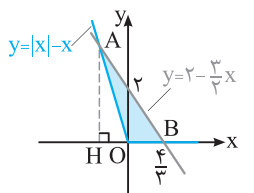
۲۵۰



$$y = \begin{cases} 4x - 4 & x \geq 0 \\ -2x - 4 & x < 0 \end{cases}$$

$$S = \frac{1}{2} \times 3 \times 4 = 6$$

۲۵۱



داریم:

$$y = |x| - x = \begin{cases} 0 & x \geq 0 \\ -2x & x < 0 \end{cases}$$

حال نمودار دو تابع $y = |x| - x$ و $y = 2 - \frac{3}{4}x$ را در یک دستگاه رسم می‌کنیم:

برای یافتن مساحت مثلث پدید آمده، لازم است، نقطه A یعنی تلاقی دو نمودار به ازای $x < 0$ را بیابیم:

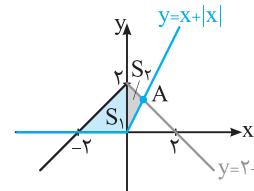
$$|x| - x = 2 - \frac{3}{4}x \xrightarrow{x < 0} -2x = 2 - \frac{3}{4}x \Rightarrow -\frac{1}{4}x = 2 \Rightarrow x = -4$$

بنابراین مساحت مثلث ABC برابر است با:

$$S = \frac{1}{2} \times OB \times AH = \frac{1}{2} \times \frac{4}{3} \times 8 = \frac{16}{3}$$

۲۵۲

نمودارهای دو تابع $y = x + |x|$ و $y = -|x| + 2$ را در یک دستگاه مختصات رسم می‌کنیم:



طول نقطه A یعنی طول نقطه تلاقی دو نمودار را به ازای $x > 0$ می‌یابیم:

$$x + |x| = 2 - |x| \xrightarrow{x > 0} 2x = 2 - x \Rightarrow 3x = 2 \Rightarrow x = \frac{2}{3}$$

بنابراین مساحت ناحیه محدود بین دو نمودار برابر است با:

$$S = S_1 + S_2 = \frac{1}{2} \times 2 \times 2 + \frac{1}{2} \times 2 \times \frac{2}{3} = 2 + \frac{2}{3} = \frac{8}{3}$$

۲۵۳

$$f(x) = x + |2x| = \begin{cases} x + 2x & x \geq 0 \\ x - 2x & x < 0 \end{cases} \Rightarrow f(x) = \begin{cases} 3x & x \geq 0 \\ -x & x < 0 \end{cases}$$